


¿Cuántas vacas ves en esta granja?





2




¿Cuántos caballos ves en esta granja?







¿Cuántas gallinas ves en esta granja?







¿Cuántos pollitos ves en esta granja?








¿Cuántos cerdos ves en esta granja?



¿Cuántos gallos ves en esta granja?



¿Cuántos conejos ves en esta granja?



¿Qué animal está encima del granero?



EL GALLO

¿Qué animal está debajo de la vaca?



UN CONEJO

¿Qué animal está detrás de los arbustos?



UN POLLITO

¿Qué animal está delante de uno de los cerdos?




UNA GALLINA

¿Qué animales están a los lados de la gallina?



UN CONEJO Y UN POLLITO



¿Qué animales están lejos?



¿Qué animales están cerca?

