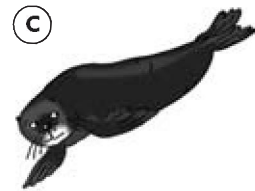

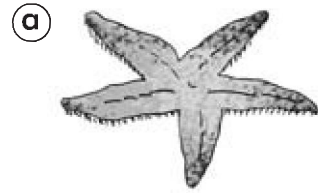



1. Relaciona cada animal con el ecosistema en el que vive.



2. Escribe el nombre de dos ecosistemas acuáticos y pon un ejemplo de cada uno.

-
-

3. Explica qué significa que entre los seres vivos de un ecosistema existe una relación alimentaria.

.....

.....

.....

.....

4. Dibuja una cadena alimentaria con los eslabones del recuadro. Después, anota debajo de cada elemento el eslabón de la cadena alimentaria que representa.

zorro – hierba – conejo



.....

.....

.....

La representación de la Tierra y la orientación

Nombre _____ Fecha _____

REPASA ESTA INFORMACIÓN.

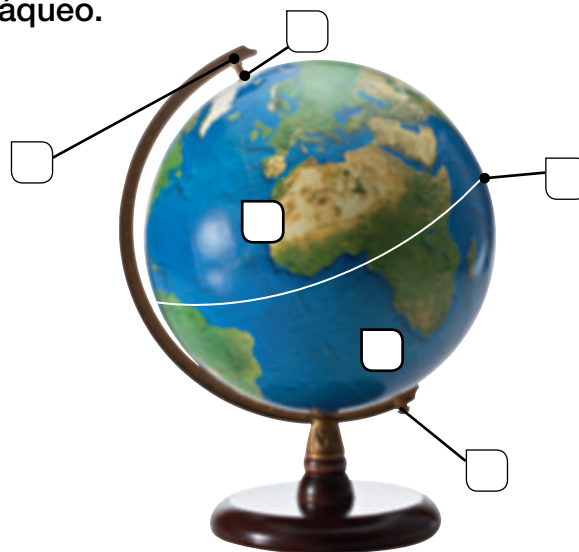
Los **globos terráqueos** y los **mapas** son representaciones de nuestro planeta. Los mapas y los planos informan del territorio que representan mediante distintos elementos. Existen varios tipos de mapas: físicos, políticos y temáticos.

Para poder orientarse en un lugar, es imprescindible localizar los **puntos cardinales**: norte, sur, este y oeste.

1 Explica las diferencias entre un globo terráqueo y un mapa.

2 Señala los elementos del globo terráqueo.

- A. Eje de rotación
- B. Polo norte
- C. Polo sur
- D. Ecuador
- E. Hemisferio norte
- F. Hemisferio sur



3 Indica a qué elemento del mapa o plano se refiere cada frase.

- Sirve para orientarnos en el mapa o en el plano: _____
- Son los textos del mapa o del plano: _____
- Explica los símbolos y los colores utilizados: _____
- Indica cuántas veces se ha reducido el territorio: _____