

SEMANA DEL 18 AL 29 DE MAYO. ORIENTACIONES PARA REALIZAR LA FICHA DE PRECIOS DE LA TIENDITA. (NO IMPRIMIR)

EN LAS FICHAS SIGUIENTES VAMOS A RECORDAR COMO SE CALCULA “EL DOBLE DE UN NÚMERO” POR DESCOMPOSICIÓN.

TAMBIÉN VAMOS A RECORDAR “LA SUMA” POR DESCOMPOSICIÓN Y EL CÁLCULO DE “LA MITAD DE UN NÚMERO” POR DESCOMPOSICIÓN.

LO PUEDES REALIZAR CON REGLETAS. SI NO TIENES REGLETAS LO PUEDES REALIZAR CON TAPAS DE BOTELLA O CUALQUIER RECIPIENTE Y CON JUDIAS, GARBANZOS, PIEDRITAS O CUALQUIER MATERIAL QUE TENGAS EN CASA.

OTRA OPCIÓN ES, SÍ RECUERDAS EN TU MENTE LAS REGLETAS ENTONCES PUEDES DIBUJARLAS, O SIMPLEMENTE RECORDARLAS.

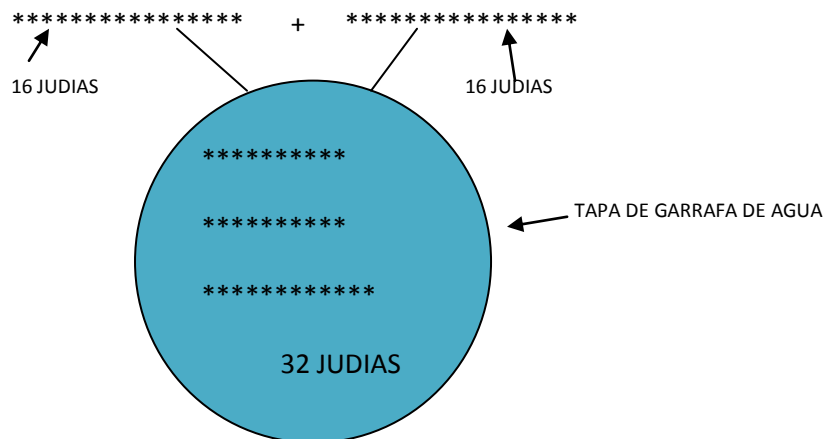
AL FINAL LO ESCRIBIMOS EN LENGUAJE SIMBÓLICO.

SI NO NECESITAS DIBUJAR LAS REGLETAS PUEDES HACERLO DIRECTAMENTE EN LENGUAJE SIMBÓLICO.

1º VAMOS A PONER UN EJEMPLO PARA RECORDAR “EL DOBLE DE UN NÚMERO” POR DESCOMPOSICIÓN.

MANIPULATIVO CON JUDIAS Y TAPAS DE BOTELLAS

POR EJEMPLO VAMOS A CALCULAR EL DOBLE DE 16



IMPORTANTE

ACUÉRDATE NO HAY QUE IMPRIMIR ESTOS FOLIOS.

SON PARA QUE LOS LEAS Y RECUERDES COMO SE PUEDE HACER.

DESPUÉS LAS OPERACIONES Y LAS SOLUCIONES

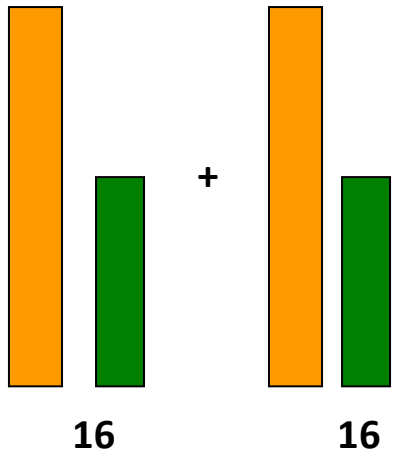
DE LA LISTA DE PRECIOS DE LA TIENDITA LA PUEDES

HACER EN UNA LIBRETA, FOLIO O PAPEL.

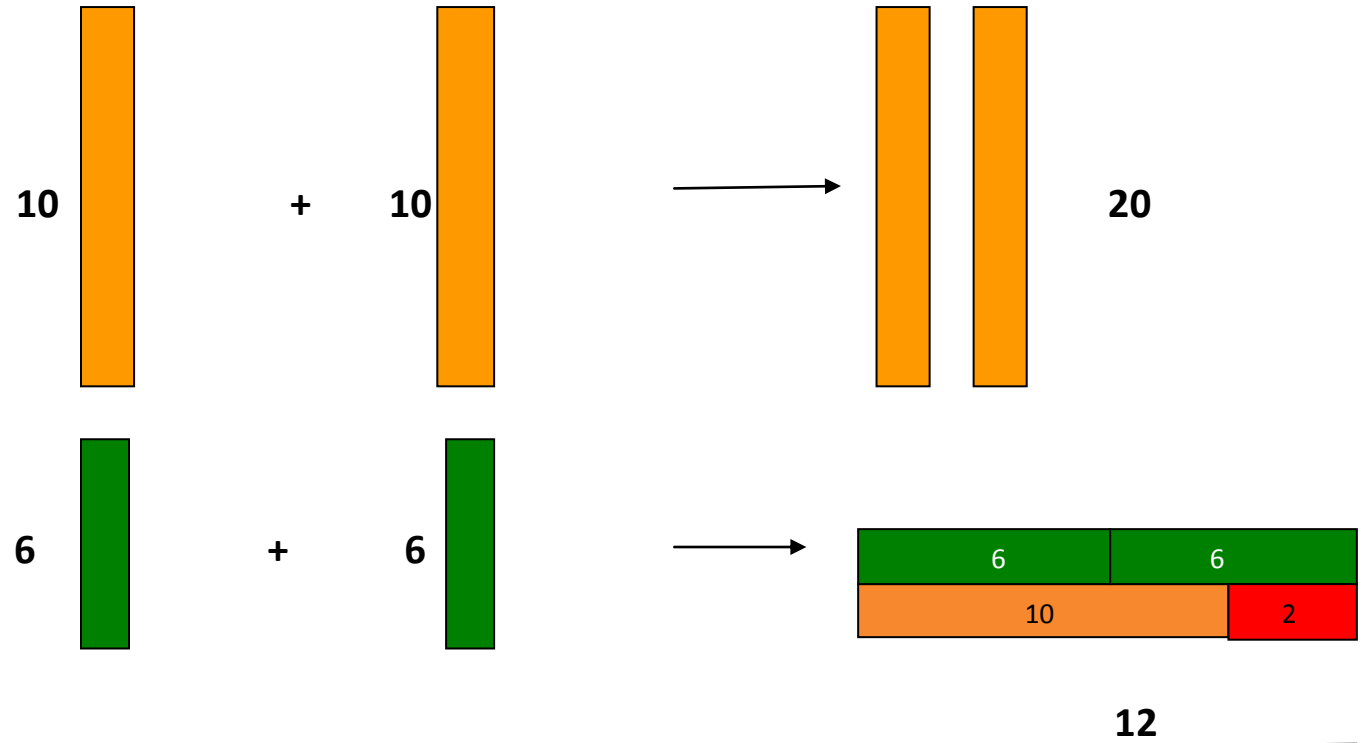
- MANIPULATIVA CON REGLETAS, SI TIENES. (LA C. SON CÉNTIMOS)

$16C. + 16C. = ?$

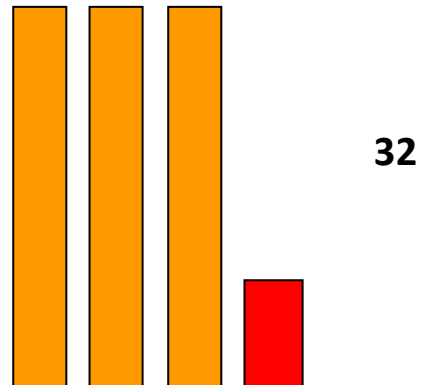
1º



2º DESCOMPONEMOS Y JUNTAMOS



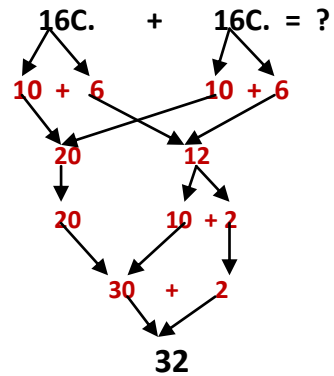
3º JUNTAMOS EL 20 CON EL 12:



- POR ÚLTIMO EN LENGUAJE MATEMÁTICO.

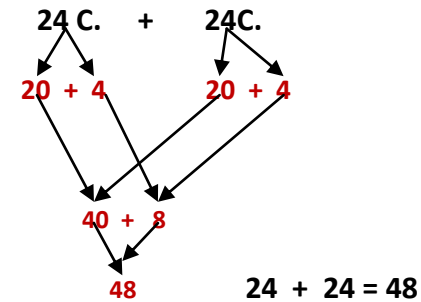
SI SABES HACERLO EN LENGUAJE MATEMÁTICO TE PUEDES SALTAR LA PARTE MANIPULATIVA. (Acuérdate que la "C." es céntimos)

UN EJEMPLO: EL DOBLE DE 16



$16 + 16 = 32$

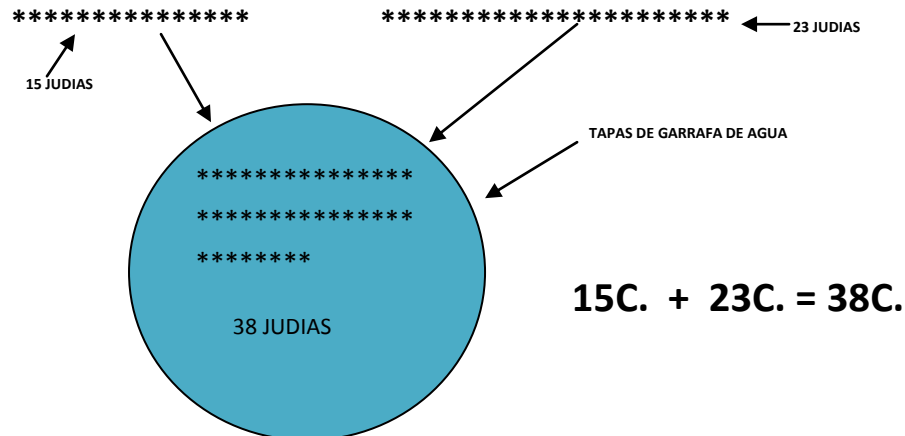
OTRO EJEMPLO: EL DOBLE DE 24



2º VAMOS A PONER UN EJEMPLO PARA RECORDAR LA SUMA POR DESCOMPOSICIÓN.

POR EJEMPLO VAMOS A SUMAR 15 CÉNT. + 23 CÉNT. = ?

- MANIPULATIVO CON JUDIAS Y TAPAS DE BOTELLAS



IMPORTANTE

ACUÉRDATE NO HAY QUE IMPRIMIR ESTOS FOLIOS.

SON PARA QUE LOS LEAS Y RECUERDES COMO SE PUEDE HACER.

DESPUÉS LAS OPERACIONES Y LAS SOLUCIONES

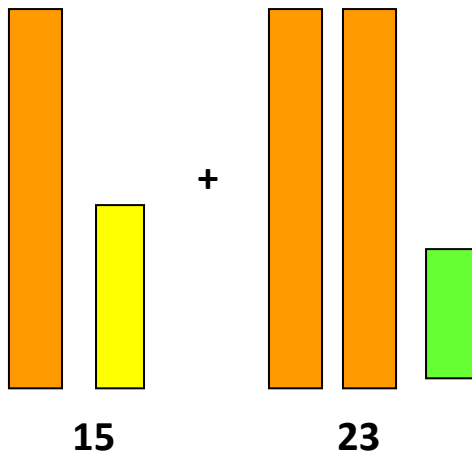
DE LA LISTA DE PRECIOS DE LA TIENDITA LA PUEDES

HACER EN UNA LIBRETA, FOLIO O PAPEL.

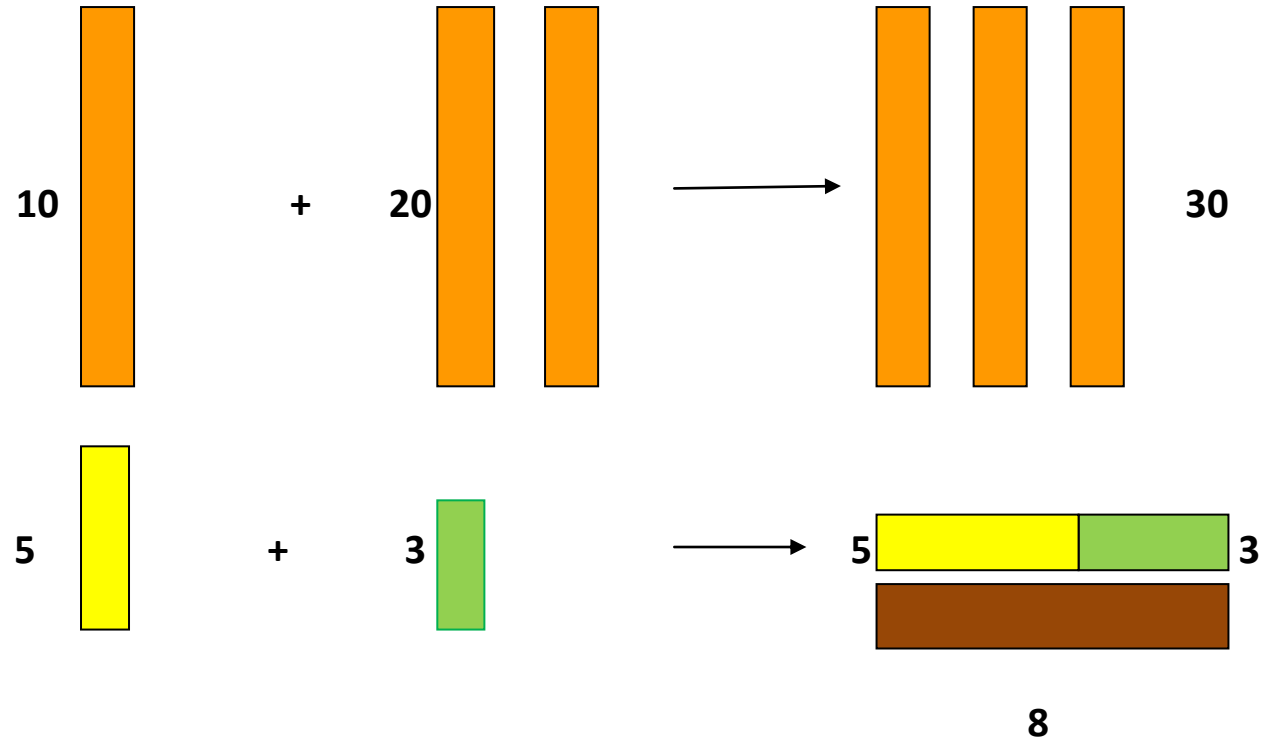
- MANIPULATIVA CON REGLETAS, SI TIENES.

$15C. + 23C. = ?$

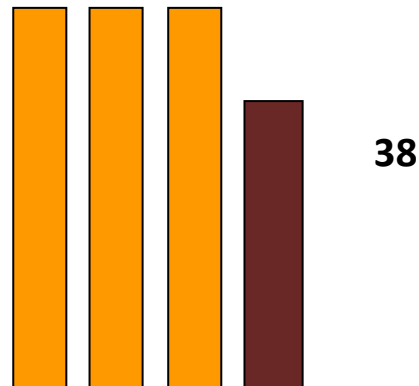
1º



2º DESCOMPONEMOS Y JUNTAMOS



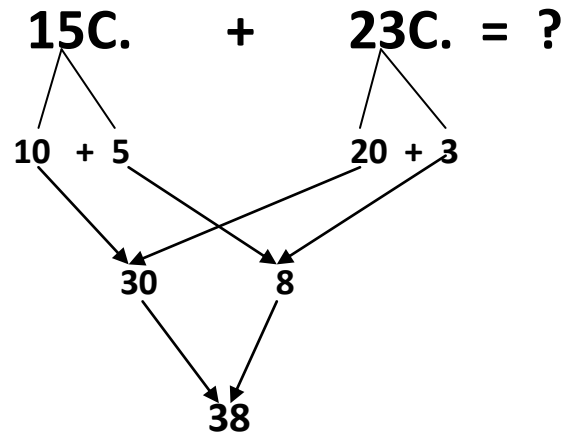
3º JUNTAMOS EL 30 CON EL 8:



- POR ÚLTIMO EN LENGUAJE MATEMÁTICO.

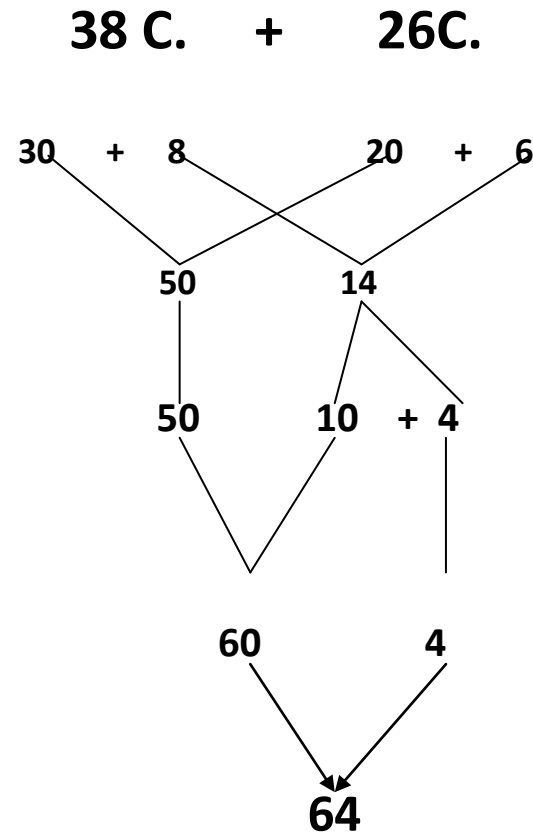
SI SABES HACERLO EN LENGUAJE MATEMÁTICO TE PUEDES SALTAR LA PARTE MANIPULATIVA. (Acuérdate que la "C." es céntimos)

UN EJEMPLO



15 + 23 = 38 C.

OTRO EJEMPLO

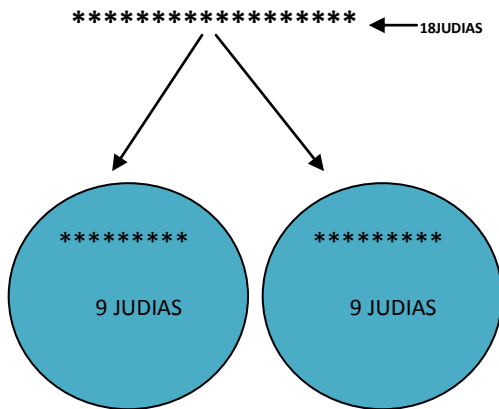


38 C. + 26C. = 64 C.

2º VAMOS A PONER UN EJEMPLO PARA RECORDAR EL CÁLCULO DE LA MITAD POR DESCOMPOSICIÓN.

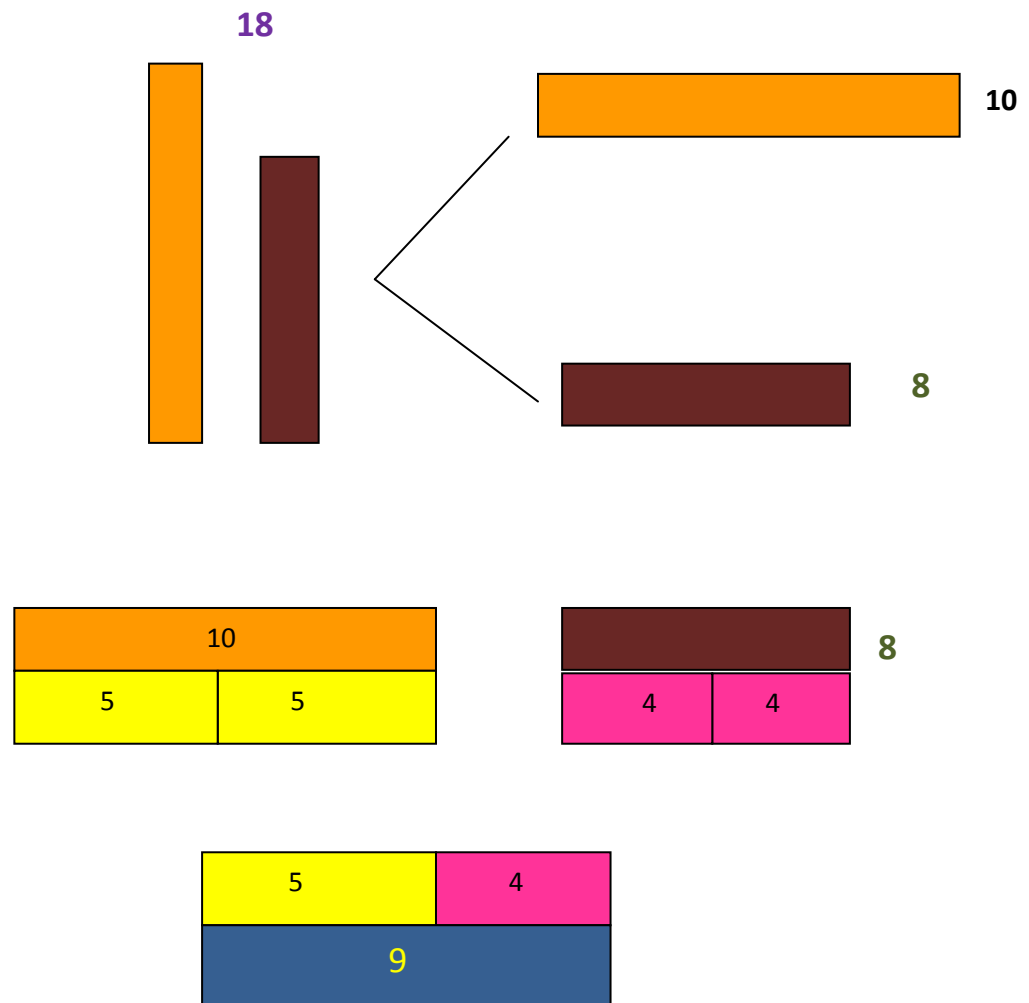
POR EJEMPLO VAMOS A CALCULAR LA MITAD DE 18 .

MANIPULATIVO CON JUDIAS Y TAPAS DE BOTELLAS



LA MITAD DE 18 ES 9

- MANIPULATIVA CON REGLETAS , SI TIENES.

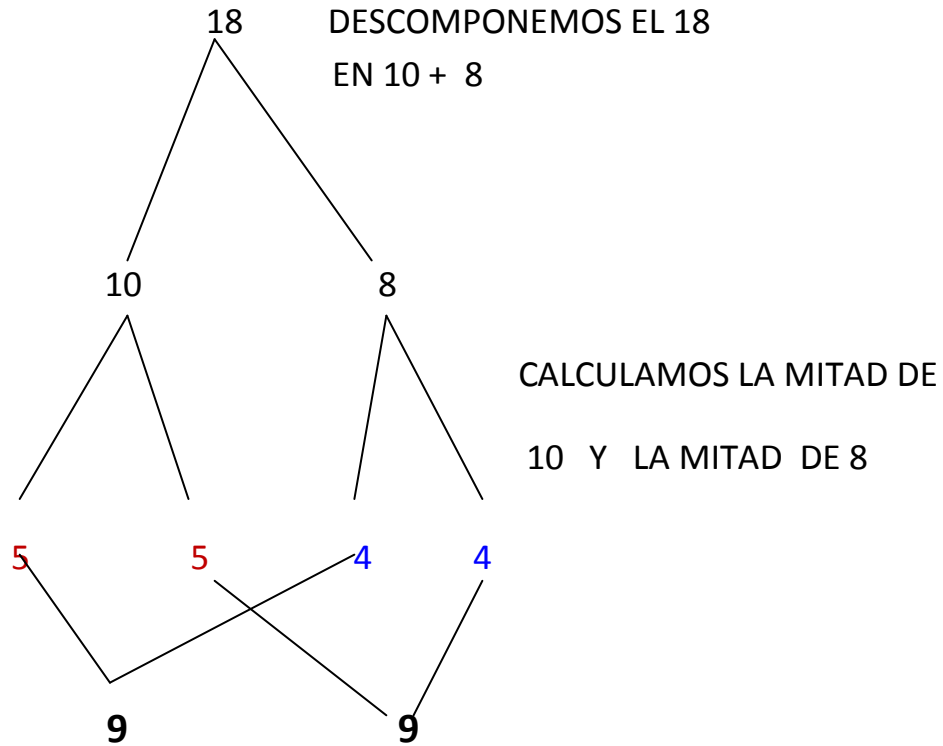


- POR ÚLTIMO EN LENGUAJE MATEMÁTICO.

SI SABES HACERLO EN LENGUAJE MATEMÁTICO TE PUEDES SALTAR LA PARTE MANIPULATIVA.

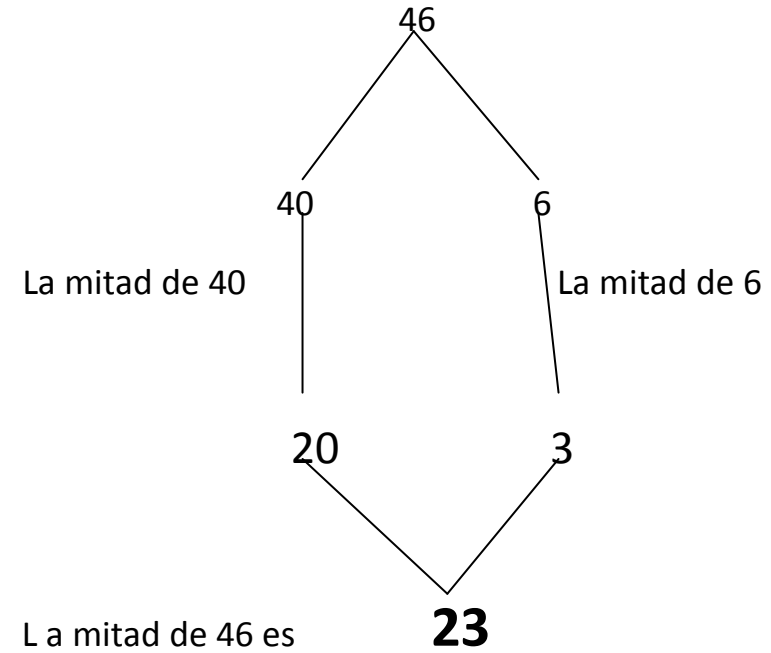
UN EJEMPLO:

CALCULA LA MITAD DE 18



LA MITAD DE 18 ES 9

OTRO EJEMPLO: CALCULA LA MITAD DE 46



LISTA DE PRECIOS 2º

(8ª ficha) Semana del 18 de mayo al 29 de mayo.

REALIZA EN UNA HOJA LAS OPERACIONES POR DESCOMPOSICIÓN. SI TIENES DIFICULTAD VUELVE A LEER ATENTAMENTE LAS ORIENTACIONES ANTERIORES. NO HAY QUE IMPRIMIR ESTE FOLIO. LAS OPERACIONES Y LA SOLUCIÓN LA PUEDES HACER EN UNA LIBRETA, FOLIO O CUALQUIER OTRO PAPEL QUE TENGAS EN CASA.

1. Purpurina de estrellitas: $24 \text{ cént} + 37 \text{ cént} = \dots\dots\dots$
2. Pegatinas: cada una vale 5 cént. pero el paquete trae 4 pegatinas ¿Cuánto vale el paquete? $= \dots\dots\dots$
3. Cuentos “Leo-Leo”: el doble de 12 más 20 más 8 cént. $= \dots\dots\dots$
4. Lápices de estrellas: el doble de 22 más la mitad de 64 cént $= \dots\dots\dots$
5. Gomas: la mitad de 84 cént. Pero la vamos a comprar entre dos amigos. ¿Cuánto tendrá que poner cada niño? $= \dots\dots\dots$
6. Marionetas de deditos: el doble de 13 cént. y a esa cantidad le sumas 17 cént $= \dots\dots\dots$
7. Cuentos de colorear: a 40 cént. le tienes que sumar la pareja de 8 para llegar a 10 $= \dots\dots\dots$
8. Afiladores: la mitad de 26 cénti. $= \dots\dots\dots$
9. Cinta adhesiva de colores: el doble de 24 más la mitad de 28 cént. $= \dots\dots\dots$
10. Taxos: Cada uno vale 5 cént. pero el paquete trae 10 cént. ¿ cuánto tendrás que pagar? $= \dots\dots\dots$