

## 2º EDUCACIÓN PRIMARIA.

### LENGUA. LECTURAS INTERACTIVAS.

**Realizar la lectura diaria y responder a las actividades interactivas de cada una de ellas.**

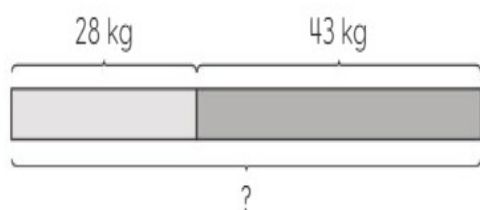
<b>Lunes 16</b>	<b>Martes 17</b>	<b>Miércoles 18</b>	<b>Jueves 19</b>	<b>Viernes 20</b>
El Gallo Kiko <a href="https://www.mundoprimary.com/lecturas-para-ninos-primaria/gallo-kiko">https://www.mundoprimary.com/lecturas-para-ninos-primaria/gallo-kiko</a>	Tristán quería ser pirata <a href="https://www.mundoprimary.com/lecturas-para-ninos-primaria/tristan-pirata">https://www.mundoprimary.com/lecturas-para-ninos-primaria/tristan-pirata</a>	El gato Vladimir <a href="https://www.mundoprimary.com/lecturas-para-ninos-primaria/gato-vladimir">https://www.mundoprimary.com/lecturas-para-ninos-primaria/gato-vladimir</a>	El sol <a href="https://www.mundoprimary.com/lecturas-para-ninos-primaria/sol">https://www.mundoprimary.com/lecturas-para-ninos-primaria/sol</a>	La bicicleta <a href="https://www.mundoprimary.com/lecturas-para-ninos-primaria/bicicleta">https://www.mundoprimary.com/lecturas-para-ninos-primaria/bicicleta</a>
<b>Opcional:</b> Realizar un dibujo que refleje la lectura diaria.				

## MATEMÁTICAS.

### LUNES 16

Resuelve.

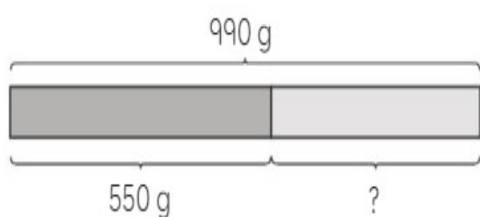
- 1 Eider pesa 28 kg.  
Su madre pesa 43 kg más que ella.  
¿Cuánto pesa la madre de Eider?



$$\square + \square = \square$$

La madre de Eider pesa  kg.

- 2 El abuelo de Kiko tiene 990 g de arroz.  
Utiliza 550 g para hacer una paella.  
¿Cuánto arroz le queda?



$$\square - \square = \square$$

Al abuelo de Kiko le quedan  g de arroz.

**MARTES 17**

- 3 La masa de la mochila de Pau es de 11 kg.  
La mochila de Inés pesa 5 kg menos que la de Pau.  
¿Cuál es la masa de la mochila de Inés?



La masa de la mochila de Inés es  kg.

- 4 Una piedra pequeña pesa 27 g.  
Una piedra más grande pesa 54 g.  
¿Cuál es la masa total de las dos piedras?

La masa total es  g.

## MIÉRCOLES 18

- 5 Un estuche lleno de lápices tiene una masa de 875 g.  
La masa total de lápices es de 475 g.  
¿Cuál es la masa del estuche vacío?

La masa del estuche vacío es  g.

- 6 Raúl ha recogido 3 kg de fresas en una granja.  
Diego ha recogido 5 kg de fresas.  
Omar ha cogido 9 kg de fresas.  
¿Cuál es la masa total de las fresas recogidas por los tres niños?

La masa total es  kg.

- 7 La masa de una maleta vacía es 7 kg.  
Si ponemos 17 kg de ropa dentro, ¿cuál será la masa total de la de ropa?


La masa total de la maleta es  kg.

- 8 La masa de una magdalena es de 95 g.  
Pesa 37 g más que una galleta.  
¿Cuál es la masa de la galleta?

La masa de la galleta es  g.

Resolver problemas

- 1 Aquí hay 10 clips.  
Cada clip pesa 8 g.  
¿Cuál es la masa total de los clips?



$$\square \times \square = \square$$

La masa total de los clips es  $\square$  g.

- 2 Para hacer 5 fuentes iguales de arroz con leche se usan 10 kg de arroz.  
¿Cuánto arroz se necesita para hacer una fuente?



$$\square : \square = \square$$

Para hacer una fuente de arroz con leche se necesitan  $\square$  kg de arroz.