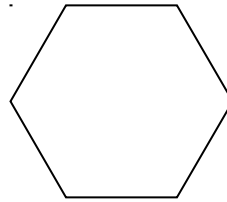
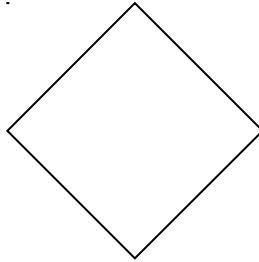
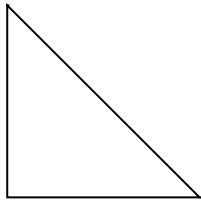


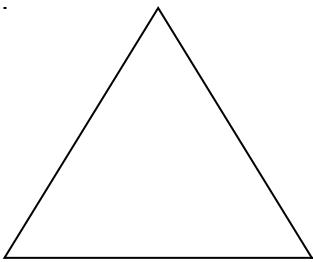
Recurso 2 Matemáticas 2º

Los polígonos

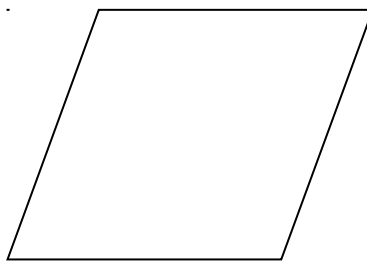
Los polígonos son las figuras planas limitadas solamente por líneas rectas



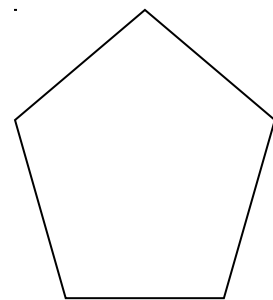
Nombres de los polígonos según el número de lados que tengan.



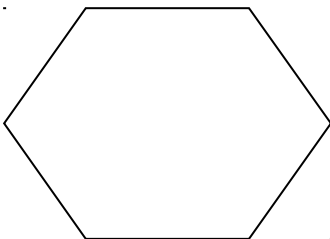
Triángulo



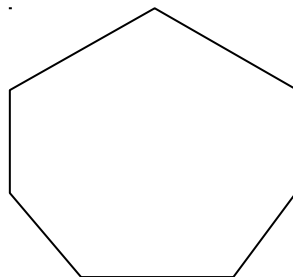
cuadrilátero



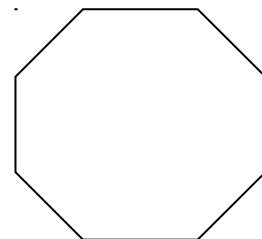
Pentágono



Hexágono

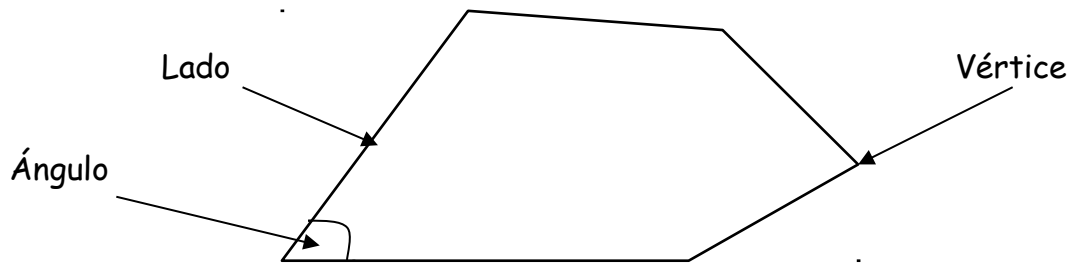


Heptágono



Octógono

Elementos de un polígono



Recorta de trozos de revista diferentes polígonos y pégalos aquí. Escribe debajo su nombre.

Colorea de verde los polígonos que tengan cinco lados.

