





Nombre _____ Fecha _____

RECUERDA

- Un día tiene 24 horas. Después del mediodía, para saber qué hora es, restamos 12 al número de horas indicado en el reloj.
- Una hora tiene 60 minutos. Para leer la hora, debemos decir el número que indica las horas y, después, el que indica los minutos, o también expresarla como en el reloj de agujas.

1 Dibuja las manecillas para que el reloj de agujas marque la misma hora que el digital.



2 Escribe la hora que marca cada reloj digital de dos formas diferentes.

 ▶ Las 2 _____ o las 3 _____

 ▶ Las _____ o las _____

3 Completa.

- La película acaba a las 19 horas. ▶ La película acaba a las _____ de la tarde.
- La frutería cierra a las 21 horas. ▶ La frutería cierra a las _____ de la noche.
- El tren sale a las 23 horas. ▶ El tren sale a las _____ de la noche.

4 Lee y resuelve.

Cristina entró en la biblioteca a las 16:10. Estuvo leyendo durante 1 hora y 20 minutos. ¿A qué hora salió de la biblioteca?