

## Recurso 6: Prueba escrita.

Leyenda:



1 litro

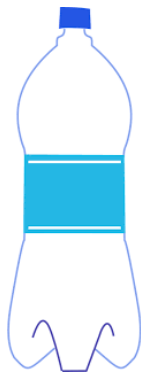


½ litro



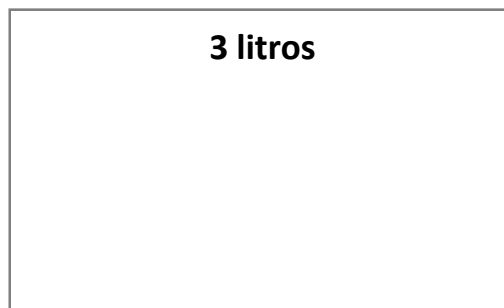
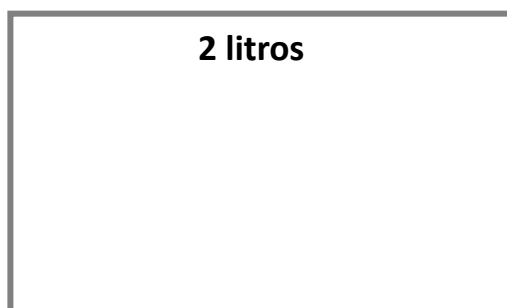
¼ litro

1. Agrupa para obtener un litro y une.

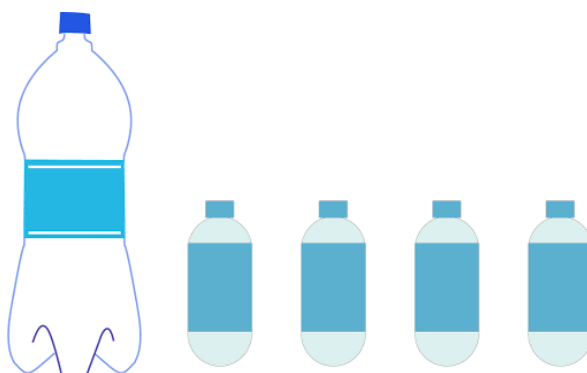


3 litros y medio

2 litros y medio



2. Ordena las cantidades anteriores de mayor a menor.
3. Observa la imagen y calcula: Si bebo una botella de medio litro, ¿cuántos litros de agua me quedan?



---

Fuente de las imágenes:  
<https://pixabay.com/es/minerales-el-agua-botella-vac%C3%ADo-33734/>  
<https://pixabay.com/es/botella-de-agua-gr%C3%A1fica-botella-2238811/>  
<https://pixabay.com/es/el-agua-agua-potable-botella-1760521/>