


Actividades de matemáticas



Nombre: _____

Grupo clase: _____

Nombre _____ Fecha _____

Así no

Observa cómo están escritos los números.

19 ► diezinueve

45 ► cuarentacinco

72 ► veintisiete

◀ Se escribe con c.

◀ No se han separado las palabras. Falta una y.

◀ Está escrito mirándolo al revés.



Así sí

Observa y escribe.

19 ► diecinueve

18 ►

45 ► cuarenta y cinco

46 ►

72 ► setenta y dos

73 ►

Lo hago yo

Escribe los nombres de los números.

17 ►

16 ►

38 ►

56 ►

67 ►

81 ►

Nombre _____ Fecha _____

Así no

Observa cómo se han hecho estas restas.

$$\begin{array}{r} 9 \\ - 5 \\ \hline 1 4 \end{array} \quad \begin{array}{r} 8 \\ - 3 \\ \hline 1 1 \end{array} \quad \begin{array}{r} 1 2 \\ - 1 0 \\ \hline 2 2 \end{array} \quad \begin{array}{r} 1 4 \\ - 1 2 \\ \hline 2 6 \end{array}$$



Están mal porque no se ha restado, sino que se ha sumado. Son restas y no sumas.

Así sí

Observa los ejemplos y calcula las restas que faltan.

$$\begin{array}{r} 9 \\ - 5 \\ \hline 4 \end{array} \quad \begin{array}{r} 8 \\ - 3 \\ \hline 5 \end{array}$$

Ahora están bien.
El signo $-$ significa RESTAR.

$$\begin{array}{r} 1 2 \\ - 1 0 \\ \hline \end{array} \quad \begin{array}{r} 1 4 \\ - 1 2 \\ \hline \end{array}$$

Lo hago yo

Resuelve las restas.

$$\begin{array}{r} 7 \\ - 5 \\ \hline \end{array} \quad \begin{array}{r} 9 \\ - 1 \\ \hline \end{array} \quad \begin{array}{r} 2 2 \\ - 1 1 \\ \hline \end{array} \quad \begin{array}{r} 2 4 \\ - 1 0 \\ \hline \end{array} \quad \begin{array}{r} 3 2 \\ - 2 1 \\ \hline \end{array}$$

Nombre _____ Fecha _____

Así no

Observa lo que dicen estos niños al restar.

$$\begin{array}{r} 17 \\ - 12 \\ \hline \end{array}$$

De 7 hasta 2 van...
NO se debe hacer la resta de esta forma.

$$\begin{array}{r} 18 \\ - 13 \\ \hline \end{array}$$

De 8 hasta 3 van...
NO se debe hacer la resta de esta forma.

Así sí

Observa lo que se debe decir para calcular y haz las restas.

$$\begin{array}{r} 17 \\ - 12 \\ \hline 05 \end{array}$$

De 2 hasta 7 van... 5.

$$\begin{array}{r} 18 \\ - 13 \\ \hline \end{array}$$

$$\begin{array}{r} 19 \\ - 14 \\ \hline \end{array}$$

Lo hago yo

Resuelve las restas.

$$\begin{array}{r} 17 \\ - 6 \\ \hline \end{array}$$

$$\begin{array}{r} 19 \\ - 1 \\ \hline \end{array}$$

$$\begin{array}{r} 24 \\ - 11 \\ \hline \end{array}$$

$$\begin{array}{r} 26 \\ - 12 \\ \hline \end{array}$$

$$\begin{array}{r} 34 \\ - 21 \\ \hline \end{array}$$

Nombre _____ Fecha _____

Así no

Observa cómo se han hecho estas sumas.

$$\begin{array}{r} 17 \\ + 2 \\ \hline 18 \end{array}$$

$$\begin{array}{r} 18 \\ + 1 \\ \hline 18 \end{array}$$

$$\begin{array}{r} 16 \\ + 3 \\ \hline 18 \end{array}$$



NO están bien sumadas.
No se ha contado bien al sumar.

Así sí

Observa el ejemplo y completa.

$$\begin{array}{r} 17 \\ + 2 \\ \hline 19 \end{array}$$

Cuento a partir del 17. Tengo diecisiete y dos más: dieciocho, diecinueve.
La suma es 19.

$$\begin{array}{r} 18 \\ + 1 \\ \hline \end{array}$$

$$\begin{array}{r} 16 \\ + 3 \\ \hline \end{array}$$

Lo hago yo

Calcula.

$$\begin{array}{r} 13 \\ + 4 \\ \hline \end{array}$$

$$\begin{array}{r} 11 \\ + 4 \\ \hline \end{array}$$

$$\begin{array}{r} 15 \\ + 2 \\ \hline \end{array}$$

$$\begin{array}{r} 14 \\ + 5 \\ \hline \end{array}$$

$$\begin{array}{r} 10 \\ + 6 \\ \hline \end{array}$$

Nombre _____ Fecha _____

1 Completa.

0 *cerro*

10

1 *uno*

11

2 *dos*

12

3

13

4

14

5

15

6

16

7

17

8

18

9

19

2 Une.

quince

ocho

once

dieciséis

11

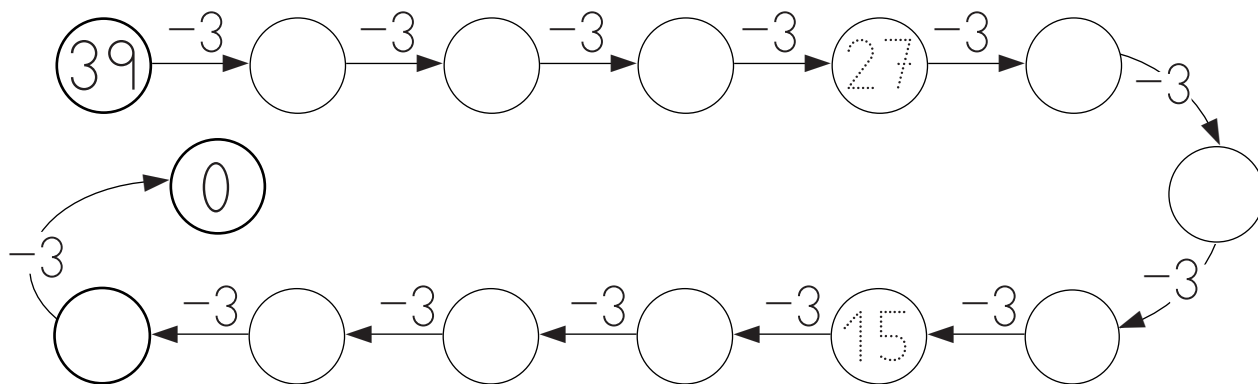
15

16

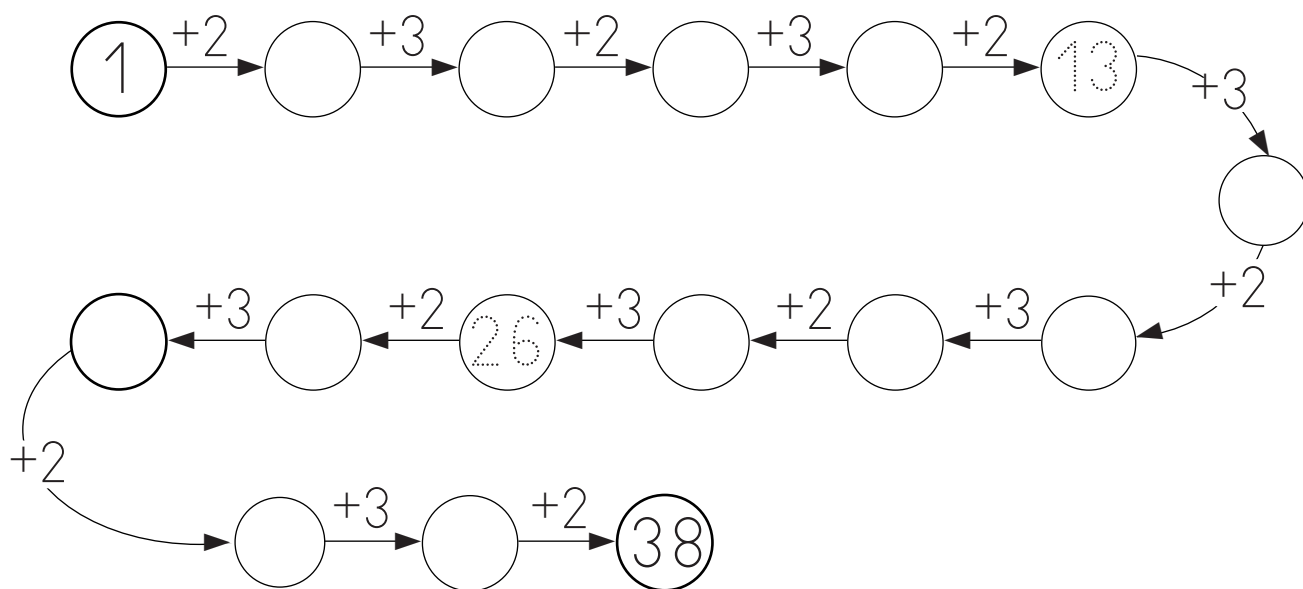
8

Nombre _____ Fecha _____

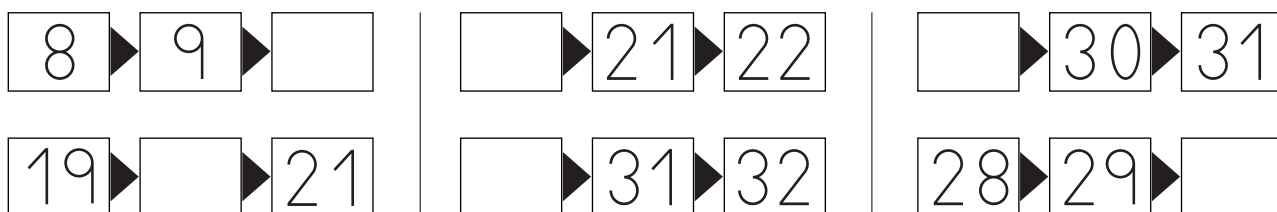
1 Completa.



2 Completa.



3 Escribe el número que falta.



Nombre _____ Fecha _____

1 Completa.

		D	U
40	<i>cuarenta</i>	4	0
41	<i>cuarenta y uno</i>	4	1
42			
43			
44			
45			
46			
47			
48			
49			

Nombre _____ Fecha _____

1 Completa.

		D	U
50	<i>cincuenta</i>	5	0
51	<i>cincuenta y uno</i>	5	1
52			
53			
54			
55			
56			
57			
58			
59			

Nombre _____ Fecha _____

1 Escribe $>$ o $<$.

$42 \bigcirc 18$

$39 \bigcirc 34$

$51 \bigcirc 48$

$52 \bigcirc 47$

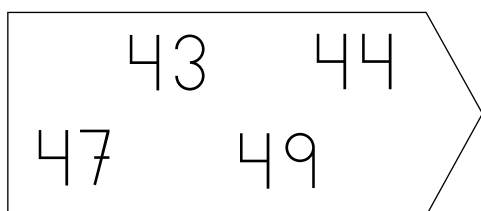
$42 \bigcirc 53$

$15 \bigcirc 17$

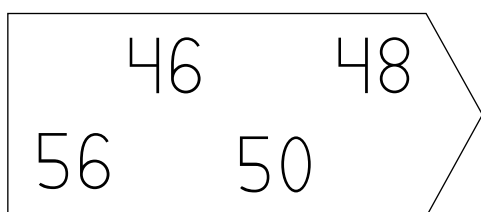
$30 \bigcirc 25$

$39 \bigcirc 42$

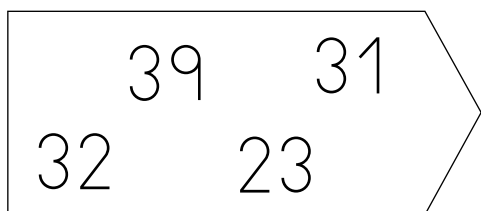
$43 \bigcirc 34$

2 Ordena de menor a mayor.


$\square < \square < \square < \square$



$\square < \square < \square < \square$

3 Ordena de mayor a menor.

$\square > \square > \square > \square$



$\square > \square > \square > \square$

Nombre _____ Fecha _____

1 Suma.

$$\begin{array}{r} 15 \\ + 4 \\ \hline \square \end{array}$$

$$\begin{array}{r} 33 \\ + 5 \\ \hline \square \end{array}$$

$$\begin{array}{r} 12 \\ + 6 \\ \hline \square \end{array}$$

$$\begin{array}{r} 56 \\ + 3 \\ \hline \square \end{array}$$

$$\begin{array}{r} 14 \\ + 2 \\ \hline \square \end{array}$$

$$\begin{array}{r} 1 \\ + 28 \\ \hline \square \end{array}$$

$$\begin{array}{r} 4 \\ + 10 \\ \hline \square \end{array}$$

$$\begin{array}{r} 3 \\ + 44 \\ \hline \square \end{array}$$

$$\begin{array}{r} 6 \\ + 11 \\ \hline \square \end{array}$$

$$\begin{array}{r} 5 \\ + 52 \\ \hline \square \end{array}$$

$$\begin{array}{r} 21 \\ + 13 \\ \hline \square \end{array}$$

$$\begin{array}{r} 16 \\ + 43 \\ \hline \square \end{array}$$

$$\begin{array}{r} 34 \\ + 4 \\ \hline \square \end{array}$$

$$\begin{array}{r} 13 \\ + 32 \\ \hline \square \end{array}$$

$$\begin{array}{r} 25 \\ + 12 \\ \hline \square \end{array}$$

$$\begin{array}{r} 51 \\ + 4 \\ \hline \square \end{array}$$

$$\begin{array}{r} 22 \\ + 16 \\ \hline \square \end{array}$$

$$\begin{array}{r} 15 \\ + 11 \\ \hline \square \end{array}$$

$$\begin{array}{r} 28 \\ + 31 \\ \hline \square \end{array}$$

$$\begin{array}{r} 37 \\ + 2 \\ \hline \square \end{array}$$

$$\begin{array}{r} 11 \\ + 20 \\ \hline \square \end{array}$$

$$\begin{array}{r} 52 \\ + 6 \\ \hline \square \end{array}$$

$$\begin{array}{r} 40 \\ + 17 \\ \hline \square \end{array}$$

$$\begin{array}{r} 23 \\ + 3 \\ \hline \square \end{array}$$

$$\begin{array}{r} 17 \\ + 21 \\ \hline \square \end{array}$$

Nombre _____ Fecha _____

1 Completa.

	Decenas	Unidades		Decenas	Unidades
56	→ 5	6		6	0 →
40	→			1	1 →
2	→			0	9 →
28	→			5	9 →
37	→			7	7 →

2 Suma 2 cada vez.

2	→		→		→		→		→		→		→		→		→		→	18
36	←		←		←		←		←		←		←		←		←		←	20
38	→		→		→		→		→		→		→		→		→		→	54
72	←		←		←		←		←		←		←		←		←		←	56

3 Suma 2 cada vez.

1	→	3	→	5	→		→		→		→		→		→		→		→	
35	←		←		←		←		←		←		←		←		←		←	19
37	→		→		→		→		→		→		→		→		→		→	

Nombre _____ Fecha _____

1 Completa.

		D	U
70	setenta	7	0
71			
72			
73			
74			
75			
76			
77			
78			
79			

Nombre _____ Fecha _____

1 Resta.

$\begin{array}{r} 49 \\ - 3 \\ \hline \square \end{array}$	$\begin{array}{r} 55 \\ - 34 \\ \hline \square \end{array}$	$\begin{array}{r} 75 \\ - 14 \\ \hline \square \end{array}$	$\begin{array}{r} 59 \\ - 5 \\ \hline \square \end{array}$	$\begin{array}{r} 88 \\ - 23 \\ \hline \square \end{array}$
--	---	---	--	---

$\begin{array}{r} 47 \\ - 23 \\ \hline \square \end{array}$	$\begin{array}{r} 55 \\ - 31 \\ \hline \square \end{array}$	$\begin{array}{r} 93 \\ - 30 \\ \hline \square \end{array}$	$\begin{array}{r} 37 \\ - 26 \\ \hline \square \end{array}$	$\begin{array}{r} 23 \\ - 12 \\ \hline \square \end{array}$
---	---	---	---	---

$\begin{array}{r} 35 \\ - 15 \\ \hline \square \end{array}$	$\begin{array}{r} 88 \\ - 26 \\ \hline \square \end{array}$	$\begin{array}{r} 57 \\ - 45 \\ \hline \square \end{array}$	$\begin{array}{r} 47 \\ - 2 \\ \hline \square \end{array}$	$\begin{array}{r} 79 \\ - 33 \\ \hline \square \end{array}$
---	---	---	--	---

$\begin{array}{r} 57 \\ - 40 \\ \hline \square \end{array}$	$\begin{array}{r} 98 \\ - 50 \\ \hline \square \end{array}$	$\begin{array}{r} 17 \\ - 15 \\ \hline \square \end{array}$	$\begin{array}{r} 88 \\ - 7 \\ \hline \square \end{array}$	$\begin{array}{r} 44 \\ - 23 \\ \hline \square \end{array}$
---	---	---	--	---

$\begin{array}{r} 52 \\ - 41 \\ \hline \square \end{array}$	$\begin{array}{r} 24 \\ - 12 \\ \hline \square \end{array}$	$\begin{array}{r} 96 \\ - 25 \\ \hline \square \end{array}$	$\begin{array}{r} 36 \\ - 10 \\ \hline \square \end{array}$	$\begin{array}{r} 83 \\ - 21 \\ \hline \square \end{array}$
---	---	---	---	---

Nombre _____ Fecha _____

1 Completa.

		D	U
15	<i>quince</i>	1	5
20			
21			
26			
28			
35			
40			
61			
76			
88			

Nombre _____ Fecha _____

1 Calcula.

$$\begin{array}{r} 30 \\ + 13 \\ \hline \square \end{array}$$

$$\begin{array}{r} 52 \\ + 34 \\ \hline \square \end{array}$$

$$\begin{array}{r} 64 \\ + 25 \\ \hline \square \end{array}$$

$$\begin{array}{r} 41 \\ + 33 \\ \hline \square \end{array}$$

$$\begin{array}{r} 72 \\ + 7 \\ \hline \square \end{array}$$

$$\begin{array}{r} 53 \\ - 21 \\ \hline \square \end{array}$$

$$\begin{array}{r} 89 \\ - 6 \\ \hline \square \end{array}$$

$$\begin{array}{r} 58 \\ - 16 \\ \hline \square \end{array}$$

$$\begin{array}{r} 75 \\ - 73 \\ \hline \square \end{array}$$

$$\begin{array}{r} 82 \\ - 61 \\ \hline \square \end{array}$$

$$\begin{array}{r} 95 \\ - 52 \\ \hline \square \end{array}$$

$$\begin{array}{r} 64 \\ - 62 \\ \hline \square \end{array}$$

$$\begin{array}{r} 42 \\ + 47 \\ \hline \square \end{array}$$

$$\begin{array}{r} 40 \\ - 10 \\ \hline \square \end{array}$$

$$\begin{array}{r} 43 \\ + 56 \\ \hline \square \end{array}$$

$$\begin{array}{r} 66 \\ + 30 \\ \hline \square \end{array}$$

$$\begin{array}{r} 49 \\ - 21 \\ \hline \square \end{array}$$

$$\begin{array}{r} 73 \\ + 4 \\ \hline \square \end{array}$$

$$\begin{array}{r} 60 \\ + 20 \\ \hline \square \end{array}$$

$$\begin{array}{r} 79 \\ - 64 \\ \hline \square \end{array}$$

$$\begin{array}{r} 90 \\ - 70 \\ \hline \square \end{array}$$

$$\begin{array}{r} 52 \\ + 27 \\ \hline \square \end{array}$$

$$\begin{array}{r} 97 \\ - 62 \\ \hline \square \end{array}$$

$$\begin{array}{r} 23 \\ + 45 \\ \hline \square \end{array}$$

$$\begin{array}{r} 89 \\ - 32 \\ \hline \square \end{array}$$

Nombre _____ Fecha _____

1 Suma.

$\begin{array}{r} 33 \\ 12 \\ + 4 \\ \hline \square \end{array}$	$\begin{array}{r} 16 \\ 40 \\ + 2 \\ \hline \square \end{array}$	$\begin{array}{r} 62 \\ 6 \\ + 11 \\ \hline \square \end{array}$	$\begin{array}{r} 5 \\ 21 \\ + 70 \\ \hline \square \end{array}$	$\begin{array}{r} 24 \\ 12 \\ + 3 \\ \hline \square \end{array}$
--	--	--	--	--

$\begin{array}{r} 24 \\ 13 \\ + 51 \\ \hline \square \end{array}$	$\begin{array}{r} 65 \\ 11 \\ + 21 \\ \hline \square \end{array}$	$\begin{array}{r} 13 \\ 41 \\ + 31 \\ \hline \square \end{array}$	$\begin{array}{r} 6 \\ 52 \\ + 20 \\ \hline \square \end{array}$	$\begin{array}{r} 22 \\ 32 \\ + 42 \\ \hline \square \end{array}$
---	---	---	--	---

$\begin{array}{r} 32 \\ 42 \\ + 24 \\ \hline \square \end{array}$	$\begin{array}{r} 43 \\ 13 \\ + 23 \\ \hline \square \end{array}$	$\begin{array}{r} 32 \\ 61 \\ + 5 \\ \hline \square \end{array}$	$\begin{array}{r} 24 \\ 21 \\ + 42 \\ \hline \square \end{array}$	$\begin{array}{r} 24 \\ 30 \\ + 41 \\ \hline \square \end{array}$
---	---	--	---	---

$\begin{array}{r} 52 \\ 15 \\ + 22 \\ \hline \square \end{array}$	$\begin{array}{r} 70 \\ 10 \\ + 19 \\ \hline \square \end{array}$	$\begin{array}{r} 12 \\ 20 \\ + 13 \\ \hline \square \end{array}$	$\begin{array}{r} 83 \\ 2 \\ + 12 \\ \hline \square \end{array}$	$\begin{array}{r} 27 \\ 11 \\ + 60 \\ \hline \square \end{array}$
---	---	---	--	---