

ACTIVIDADES MATEMÁTICAS PRIMER CICLO
2º PRIMARIA
CEIP ELVIRA VAQUERO



LUNES 20 DE ABRIL

Esta semana vamos a aprender algunas cosillas de las monedas. Primero ve el vídeo que se adjunta. Luego realiza las actividades.

Billetes y monedas: <https://www.youtube.com/watch?v=NT0ye2Can04>

Con la ayuda de tu familia busca las monedas que se indican y dibuja las dos caras. Si no encuentras alguna no te preocupes, puedes dejarla para otro momento. Después recórtalas y pégalas por la cara en blanco para que queden formadas las monedas. Si quieres puedes hacerlo en cartulina o cartón fino para que queden más fuerte.



Un céntimo		Dos céntimos	
Cinco céntimos		Diez céntimos	
Veinte céntimos		Cincuenta céntimos	
Un euro		Dos euros	

MARTES 21 DE ABRIL

¿Qué forma tienen las monedas que dibujaste ayer? Marca la respuesta correcta
Rectángulo---Rombo---Círculo--- Cuadrado---Triángulo

. *Observa la moneda de 1 euro:*



1 euro tiene 100 céntimos

. *Rodeo grupos de monedas que valgan 1 euro:*



. *¿Cuántos euros te han salido? _____*

. *¿Cuántos céntimos le faltan a 80 cent para tener 1€? _____*

. *¿Cuántos céntimos le faltan a 50 cent para tener 1€? _____*

. *¿Cuántos céntimos le faltan a 45 cent para tener 1€? _____*

MIÉRCOLES 22 DE ABRIL

Hoy nos toca investigar los billetes.

Billetes: <https://www.youtube.com/watch?v=BwX8dRFz3pE>

Con la ayuda de tu familia busca los billetes que se indican y dibuja las dos caras. Si no encuentras alguno no te preocupes, puedes dejarlo para otro momento. Después recórtalos y pégalos por la cara en blanco para que queden formados los billetes. Si quieres puedes hacerlo en cartulina o cartón fino para que quede más fuerte.

5 Euros	
10 Euros	
20 Euros	
50 Euros	

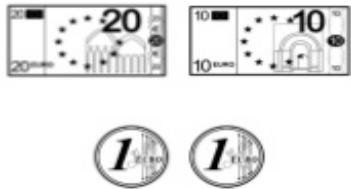

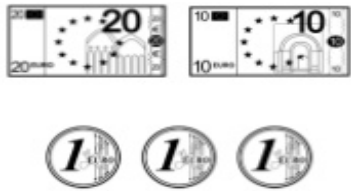
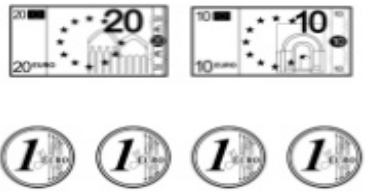
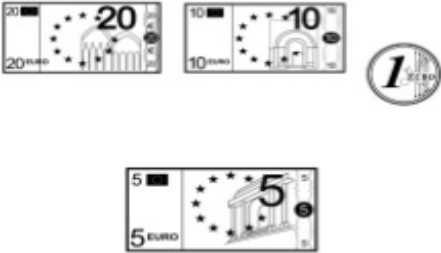
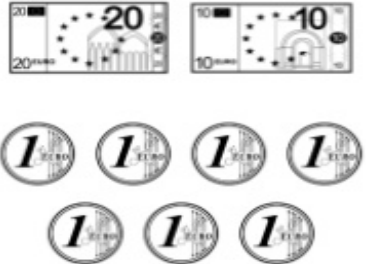
¿Fíjate ahora en los billetes? Tienen algo en común por su parte delantera ¿El qué?

¿y por la trasera?

¿Qué forma tienen los billetes? Marca la respuesta correcta

Rectángulo---Rombo---Círculo--- Cuadrado---Triángulo

Averigua lo que hay en cada grupo

	
Tengo _____ €	Tengo _____ €
	
Tengo _____ €	Tengo _____ €
	
Tengo _____ €	Tengo _____ €

JUEVES 23 DE ABRIL

Fíjate en lo que cuestan estas cosas en la librería Padilla

Lápiz	22 céntimos	Mochila	24 Euros
Goma	17 céntimos	Estuche	13 Euros
Afilador	34 céntimos	Archivador	6 Euros
Libreta	80 céntimos	Calculadora	10 Euros

Ahora averigua lo que se han gastado estos compañeros:

Marta compró dos lápices y una libreta

Iker compró un afilador, una libreta y una goma

Javier compró tres gomas y dos libretas

Irene compró una mochila, un archivador y una calculadora

Cristian compró un archivador y dos estuches

Nicole compró un archivador, un estuche y una calculadora

¿Quién ha gastado más? ¿Marta o Javier? _____

¿Quién ha gastado menos? Nicole o Irene? _____



MÁS PROBLEMAS



Rodea los datos y subraya las preguntas:

★ Mi padre compró un ventilador que costaba 135 euros y una lavadora cuyo precio era 428€. ¿Cuánto dinero pagó?









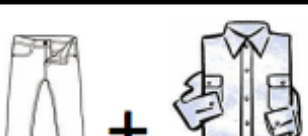

Dibuja los billetes y monedas con los que pudo pagar

SOLUCIÓN: _____

★ Observa los productos de este folleto que se venden en una tienda. Completa después la tabla de abajo.

GRANDES REBAJAS

				
35€ 25€	20€ 15€	40€ 25€	55€ 40€	50€ 45€

			
Precio inicial			
Precio rebajado			
Descuento			
Si pagas con 100 euros te devuelven...			