

ACTIVIDADES MATEMÁTICAS PRIMER CICLO
2º PRIMARIA- CEIP ELVIRA VAQUERO

LUNES 11 DE MAYO

Calcula

$$\begin{array}{r} 560 \\ + 273 \\ \hline 186 \end{array}$$

$$\begin{array}{r} 492 \\ + 136 \\ \hline 361 \end{array}$$

$$\begin{array}{r} 265 \\ + 641 \\ \hline 72 \end{array}$$

Coloca y calcula

$$807-200$$


$$574- 44$$

$$725- 102$$


HAGO COSAS EN FAMILIA.

Indica en el reloj a qué hora realizas estas tareas normalmente. Y escribe debajo como lo dirías.


Desayuno



Juego



Leo o escribo



MARTES 12 DE MAYO

Coloca y calcula

$$\begin{array}{r} 901 \\ \times 4 \\ \hline \end{array}$$

$$\begin{array}{r} 812 \\ \times 3 \\ \hline \end{array}$$

$$\begin{array}{r} 711 \\ \times 5 \\ \hline \end{array}$$

$$\begin{array}{r} 610 \\ \times 6 \\ \hline \end{array}$$

$$\begin{array}{r} 344 \\ \times 2 \\ \hline \end{array}$$

$$\begin{array}{r} 722 \\ \times 4 \\ \hline \end{array}$$

1 ¿Cuánto dinero ha gastado cada niño? Completa.



Victor ha gastado _____



Alba ha gastado _____

2 ¿Cuántos céntimos faltan para tener 1 euro? Calcula.

1 euro = 100 céntimos



Faltan _____

100
○



Faltan _____

100
○

JUEVES 14 DE MAYO

En mi familia a quien más le gustan las flores es a mi abuela. Le he preguntado cuántas tiene y me ha puesto este acertijo para averiguar el número exacto. ¿Me podrías ayudar?

Puedes hacer las operaciones que necesites para averiguarlo.

¿PUEDES RESOLVER ESTE ACERTIJO?

$$\begin{array}{r} \text{Red flower} + \text{Red flower} + \text{Red flower} = 60 \\ \text{Red flower} + \text{Blue flower} + \text{Blue flower} = 30 \\ \text{Blue flower} - \text{Yellow flower} = 3 \\ \text{Yellow flower} + \text{Red flower} + \text{Blue flower} = ? \end{array}$$

Mi abuela, que se llama Antonia, tiene _____ flores.

Y mi abuelo Pepe está todo el día hablando de estaciones espaciales y satélites. Me dijo que hay una estación espacial que da vueltas alrededor de la Tierra. Pero no me dijo cada cuantos minutos tardaba. ¿Me ayudas?

La Estación Espacial Internacional orbita la Tierra cada __ minutos

$$\begin{array}{r} \text{Earth} + \text{Earth} = 40 \\ \text{Rocket} + \text{Earth} = 30 \\ \text{Rocket} + \text{Astronaut} = 80 \\ \text{Astronaut} + \text{Earth} = ?? \end{array}$$

VIERNES 15 DE MAYO

HOY COMO ES EL DÍA DE LA FAMILIA, VAMOS A AVERIGUAR UN POCO MÁS SOBRE ELLOS. TE PONGO UN EJEMPLO PARA QUE PUEDAS RELLENAR EL CUADRO.

USA LOS INSTRUMENTOS QUE PUEDAS PARA COMPROBARLO SI LOS TIENES EN CASA (PESA, METRO, ETC.)

Mi	Mide	Pesa	Y su cumpleaños es el
Abuela	157 cms	87 Kilos	Viernes 15 de mayo

Yo mido _____ y peso _____ y mi cumpleaños es el

¿Quien es el más alto? _____

y ¿el más bajo? _____

¿Quién pesa menos? _____

¿Quién pesa más? _____

HEMOS ACABADO POR ESTA SEMANA.
QUE PASES UN FELIZ DÍA DE LA FAMILIA.

