

## Actividades para el tema 3 “Relieve España y Canarias”

Las actividades se realizan en el cuaderno del alumno, debiendo escribir el enunciado del mismo (para poder corregirlas posteriormente). Se utilizará bolígrafo, ya que el lápiz no es legible en los envíos del documento.

Se entregarán o bien en formato de imagen (numeradas las imágenes y las hojas) y siempre es necesario añadir el nombre del alumno en cuestión.

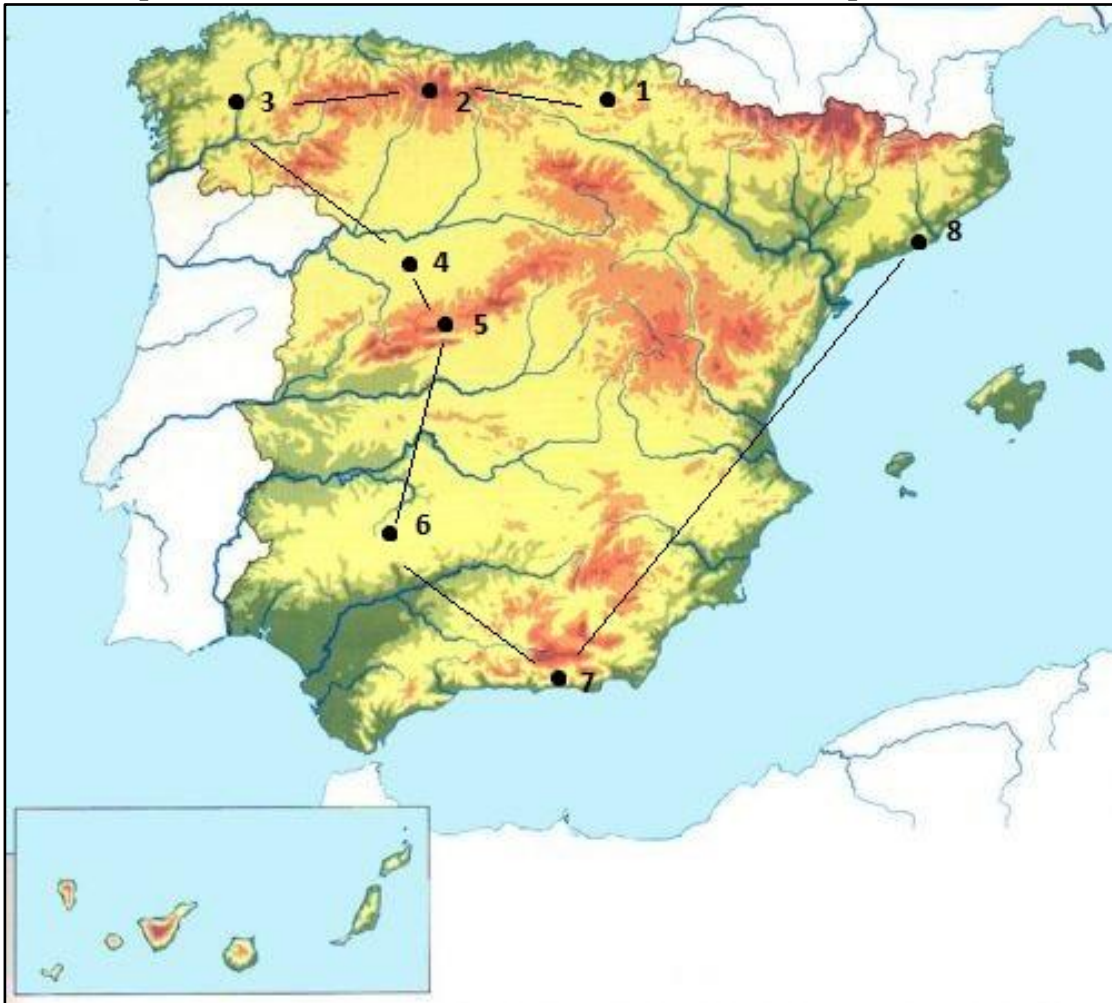
### 1. Localiza en la siguiente sopa de letras el nombre de 10 accidentes geográficos (montañas, cordilleras, valles, mesetas, islas) de España Y Canarias.

G H J H M S I E R R A M O R E N A J K L A G U M E T O G V H T B H B J  
M S M A S I G U F H U E T Y W W H X C O S T A S S L H O R O R L H K L  
S U B M E S E T A N O R T E L A B Z O H J J O S Y A J D E L O L A Q S  
Y S D U O T E L M A N U E L H J K L R A U L H N O G S O F I A G H U O  
H I H L A E F R M E R C A D O N A S D E P R E S I O N D E L E B R O J  
R A S A Y M A D F J I O L O L L Ñ T I G E E L E H M P L I Q W A S D K  
V V D N R S I S T E M A C E N T R A L F H T H A G E E G H J Z X C C I  
S I I A U I M O N T I L L S G T H B E U H B I J K R M N B C F E D T K  
G S A S K B K A K A P E D O S Y G H R N O O E L H A I E R R O E D C I  
W M O N T E S D E T O L E D O S D I A E L S R I Q U G B A D E F G H S  
R E K L N R H I E L S C D F G H A F S G U S R X E S T O E S N I D R V  
T R I N A I B I Z A G V D E R F V V U O P S O S F G Y U I N G F S S R  
U I H G A C H O U D T E L L M I D T B I P U E R T Y D E L I A C R F O  
J H E F J O R M I F G A S E D F G G B H F O R N I T E E S E L M E J D  
K G A D K I N S T I T U T O D E G H E P E R R U N U S D E L A D E F A  
M U C A N D E L A R I A H J T Y U I T U U I L Ñ F G U I M A R G T J B  
A B D F G H J J A D L A G O H J K L I L G A R A A D D F R C G B G H I  
G H J K L Ñ Z X C V F R T G B H Y J C N G A R A C H I C O S G H J I L  
M E N A C E R I N I M B M E N O R C A N U N E N E F T G H J O Y M T D  
F O R N E N T A R I O G J D H J K I K V I Ñ E D O S D E T A C O D S E

### 2. Completa la siguiente tabla con todos los accidentes geográficos que te acuerdes o aparezcan en el mapa.

Cordilleras y sierras	Mesetas y depresiones	Picos y montañas	Islas

3. Tienes que indicar al hombre de accidentes debe en su ruta por la Península Ibérica.

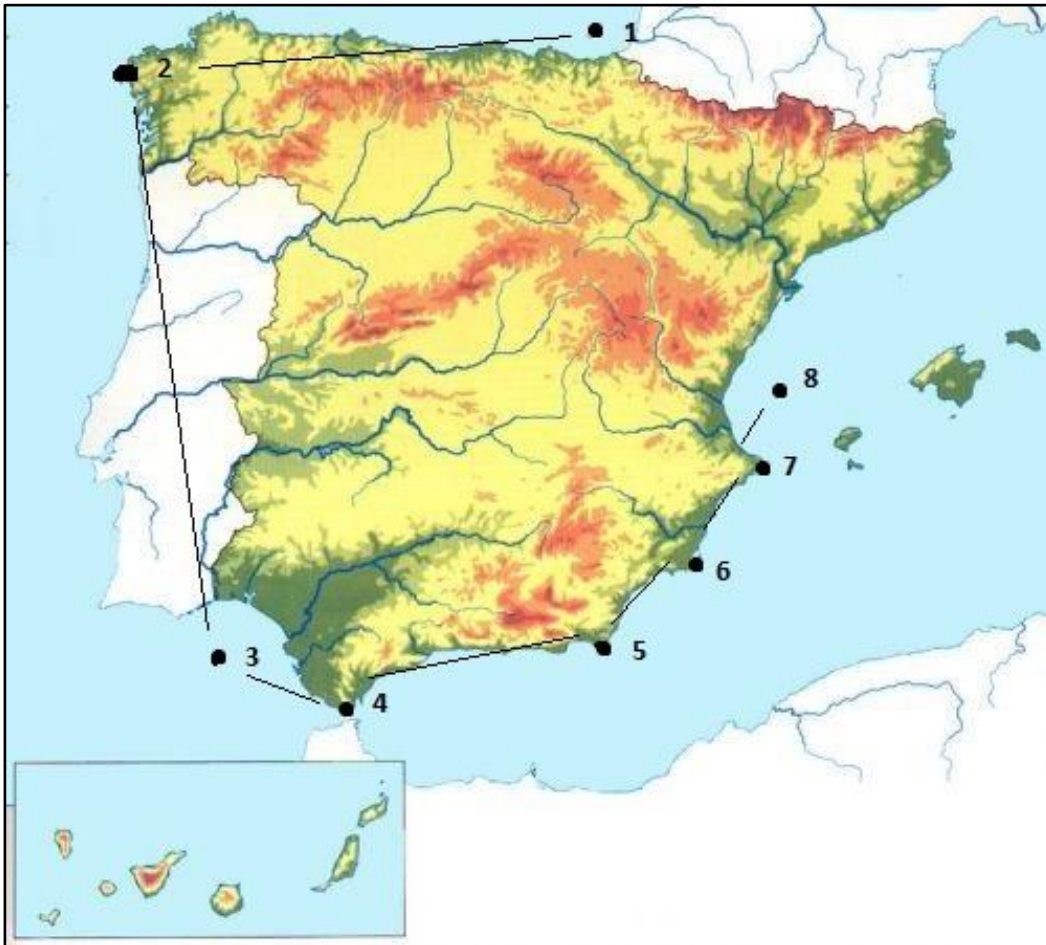


- 1)
- 2)
- 3)
- 4)
- 5)
- 6)
- 7)
- 8)

4. Escribe el nombre de los ríos más importantes en el bloque de su cuenca hidrográfica en el que se encuentre.

Cuenca Hidrográfica Atlántica	Cuenca Hidrográfica Cantábrica	Cuenca Hidrográfica Mediterránea

5. Indica los diferentes golfos y cabos que se encuentran representado con un número en el mapa.



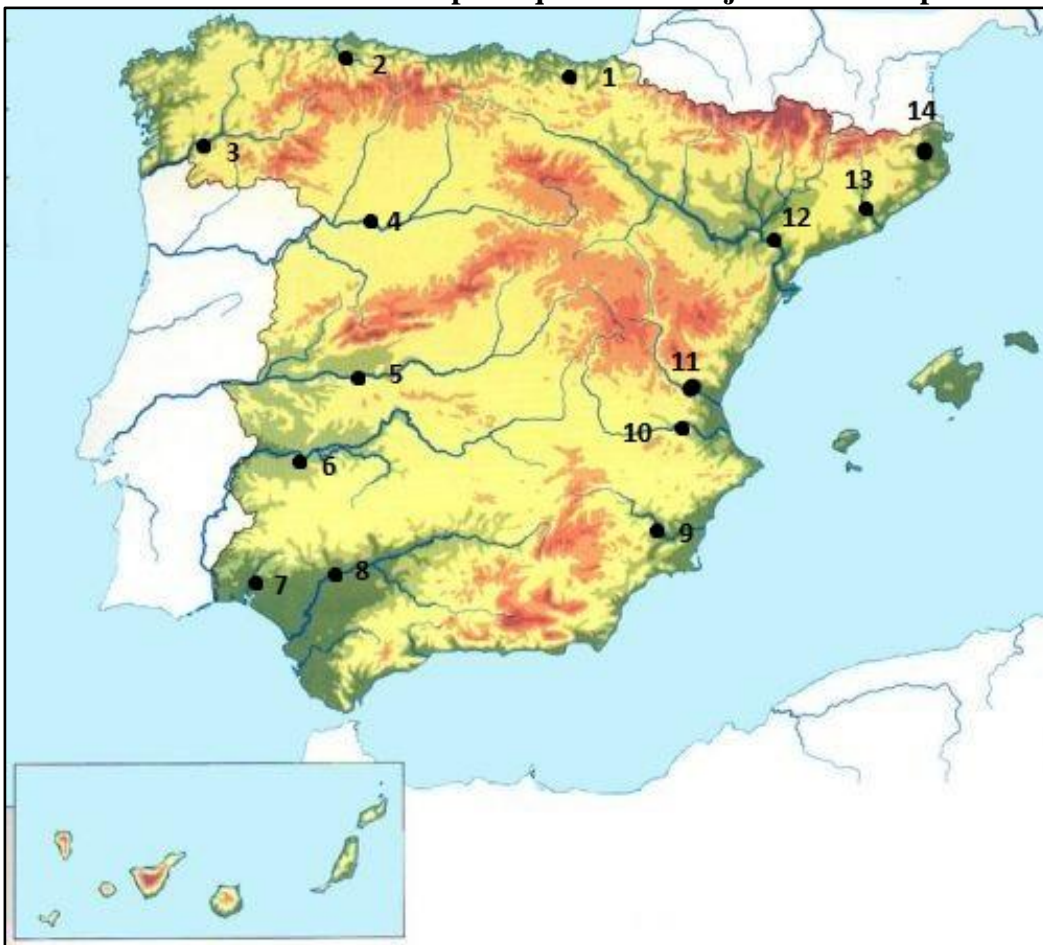
- 1)
- 2)
- 3)
- 4)
- 5)
- 6)
- 7)
- 8)

6. Descubre a que accidente geográfico y ríos se trata, resolviendo la siguiente adivinanza:

- a) Me encuentro muy al norte. Tengo varias de las elevaciones más altas de España y comparto territorio con otro país. ¿Qué accidente geográfico soy?
- b) Soy muy pequeña y de poca altitud. Hace menos de 1 año me subieron de categoría y dicen que soy muy simpática. ¿Quién soy?
- c) Soy muy largo y llevo mucha agua. Cuando paso por los diferentes puentes me cantan sevillanas. ¿Quién soy?
- d) Soy muy alto y divido a España a la mitad. Por encima tengo el norte y por debajo el sur. ¿Quién soy?
- e) Somos muchas y de distinto tamaño. Algunas somos muy tranquilas otras no duermen por las noche. Una dice que es muy grande y otra que es pequeña Todas cabemos en la palma de la mano ¿Quiénes somos?

7. Intenta hacer con tus palabras 2 adivinanzas de este tipo.

8. Indica los diferentes ríos de España que están reflejados en el mapa.



- 1)
- 2)
- 3)
- 4)
- 5)
- 6)
- 7)
- 8)
- 9)
- 10)
- 11)
- 12)
- 13)
- 14)

9. Enumera las islas de España siguiendo un orden del tamaño de la misma (de la mayor a la menor) agrupadas en los archipiélagos.

Archipiélago Balear	Archipiélago Canario

10. Indica cuáles son los picos más altos de cada una de las islas y su altitud.

<b>Tenerife</b>		<b>Fuerteventura</b>	
<b>La Palma</b>		<b>Gran Canaria</b>	
<b>La Gomera</b>		<b>Lanzarote</b>	
<b>El Hierro</b>		<b>La Graciosa</b>	

11. Realiza una tabla donde indiques por cada isla los diferentes accidentes geográficos existentes.

	<b>Cordilleras, malpaís Pico,...</b>	<b>Península, istmo, islotes, Cabo (punta)</b>	<b>Bahía, cabo (punta) y golfo, estrecho...</b>
<b>Tenerife</b>			
<b>La Palma</b>			
<b>La Gomera</b>			
<b>El Hierro</b>			
<b>Gran Canaria</b>			
<b>Fuerteventura</b>			
<b>Lanzarote</b>			

12. Define los siguientes conceptos y busca un ejemplo de cada forma de relieve:

	<b>Definición</b>	<b>Ejemplo</b>
<b>Conos volcánicos</b>		
<b>Calderas</b>		
<b>Malpaís</b>		
<b>Roques</b>		
<b>Barrancos</b>		

13. Haz una tabla en la que expliques de manera fácil el tipo de aprovechamiento de agua que se da en Candelaria.

- a) Manantial;
- b) Galería;
- c) Aljibe;
- d) Planta depuradora;

**14. Escribe las características de los siguientes tipos de aprovechamiento de agua:**

- a) Galería;**
- b) Balsa;**
- c) Gavias;**
- d) Aljibe;**
- e) Manantial;**