

Nombre:

Cultura Clásica

Actividades “Marco Geográfico Grecia y Roma”

1. Realiza un mapa de la Grecia antigua e identifica con diferentes colores las siguientes regiones de la misma:

Grecia Septentrional
Grecia Central
Peloponeso

Grecia Insular
Asia Menor

2. Localiza en el mapa los siguientes nombres geográficos:

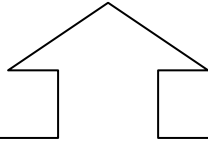

- | | | |
|---|--|--|
| <ul style="list-style-type: none"> • Macedonia • Tesalia • Monte Olimpo • Fócide • Parnaso • Delfos • Beocia • Tebas • Ática • Atenas | <ul style="list-style-type: none"> • Élide • Olimpia • Arcadia • Corintio • Argólide • Micenas • Epidaurio • Laconia • Esparta • Islas Jónicas | <ul style="list-style-type: none"> • Ítaca • Islas Cícladas • Islas Espóradas • Lesbos • Creta • Asia Menos • Troya • Rodas. |
|---|--|--|

3. Une cada ciudad con la región en la que se encuentra (coloca la letra de la ciudad a la izquierda).

	1. Micenas
	2. Olimpia
	3. Atenas
	4. Delfos
	5. Esparta
	6. Corintia
	7. Tebas

a.	Élide
b.	Beocia
c.	Fócide
d.	Ática
e.	Laconia
f.	Argólide
g.	Arcadia

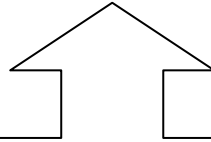
4. ¿Qué lugar es y en qué región de la Grecia antigua se encuentra?



Lugar donde habitan las Musas.

Lugar:

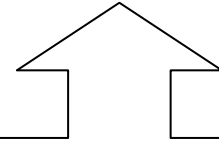
Región:



Lugar donde Clitemnestra y Egisto mataron al rey Agamenón a su regreso a Troya.

Lugar:

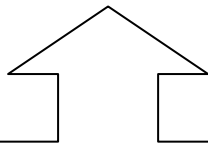
Región:



Lugar donde los atletas competían cada cuatro años. Los vencedores obtenían una corona de Laurel.

Lugar:

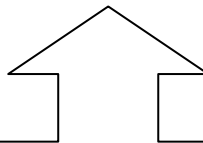
Región:



Lugar donde el héroe ateniense Teseo mató al Minotauro.

Lugar:

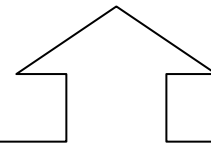
Región:



Ciudad situada entre el continente y el Peloponeso.

Lugar:

Región:















Lugar donde, según la mitología, hubo una guerra entre griegos y troyanos por una hermosa mujer.





Lugar:

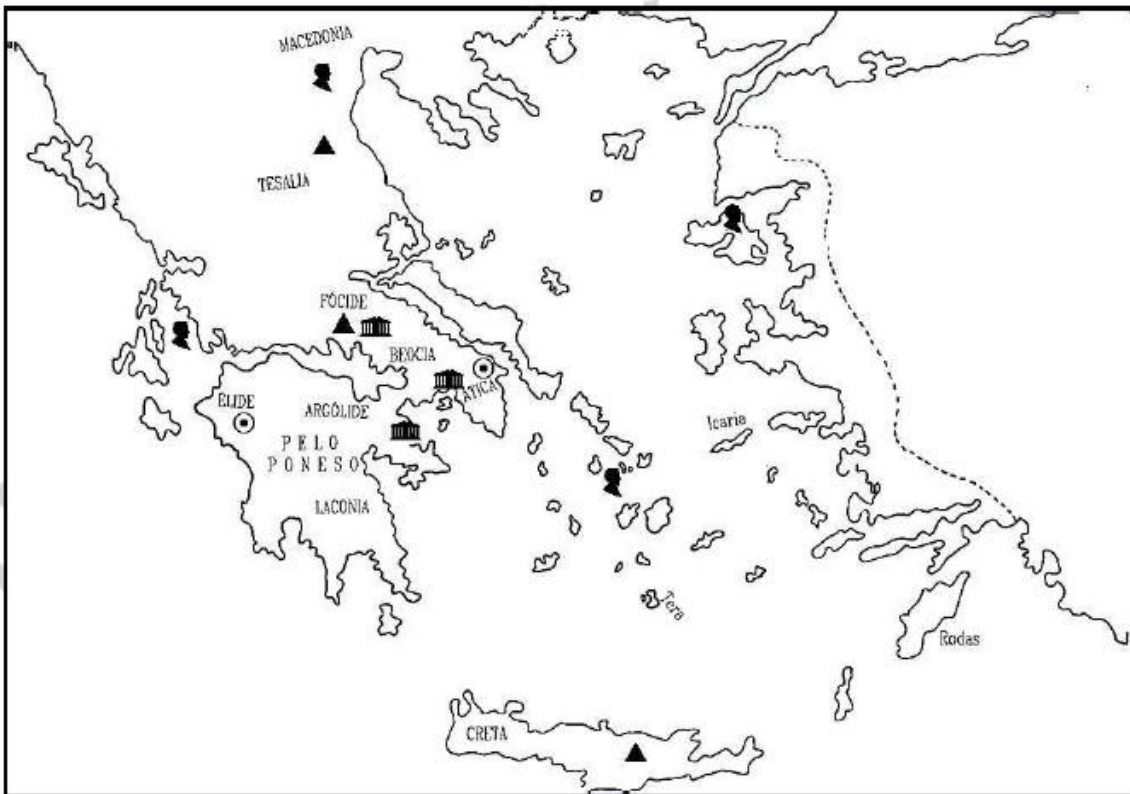
Región:

5. Indica el nombre geográfico relacionado con cada personaje o acontecimiento.

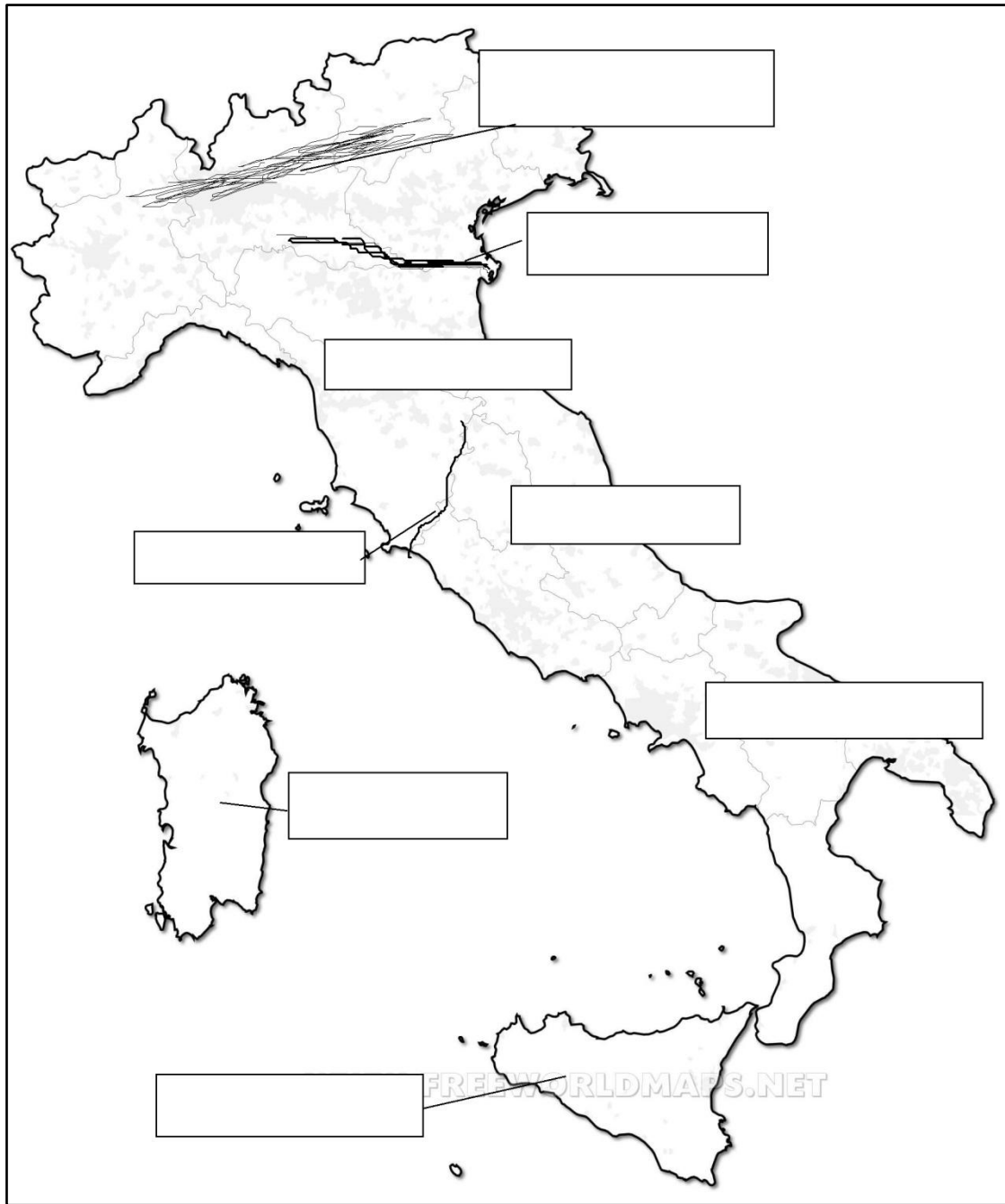
	Patria del héroe Ulises →
	Victoria de los griegos sobre los persas →
	Sede del oráculo de Apolo →
	Nacimiento e infancia de Zeus →
	Santuario de Asclepios dios de la medicina →
	Patria de la poetisa Safo →
	Morada de los dioses →
	Celebración de los juegos olímpicos →
	Patria de Filipo y Alejandro Magno →
	Celebración de cultos en honor de Deméter →
	Residencia de las Musas →
	Nacimiento de Ártemis y Apolo →

Ubica en este mapa de Grecia los lugares anteriores teniendo en cuenta el símbolo que identifica cada uno.

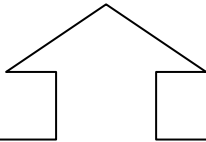
-  personaje importante
-  santuario
-  monte
-  otros



6. Sitúa en el mapa los nombres geográficos identificados en los recuadros



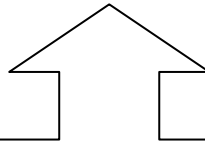
7. ¿Qué lugar es y en qué zona geográfica de Italia se encuentra?



Ciudad en la que se encuentra este edificio

¿Qué es?:

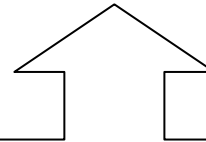
¿Dónde está?:



Río más caudaloso de Italia

¿Qué es?:

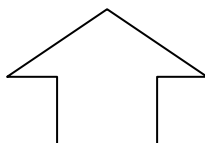
¿Dónde está?:



Cordillera que separa la península Itálica en dos vertientes

¿Qué es?:


¿Dónde está?:



Ciudad sepultada por el Vesubio

¿Qué es?:

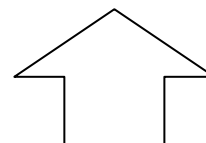
¿Dónde está?:



Volcán de la isla llamada en la antigüedad Trinacria

¿Qué es?:

¿Dónde está?:



Estrecho que separa Italia de Sicilia.

¿Qué es?:

¿Dónde está?:

8. Encuentra el error en las siguientes afirmaciones, subráyalo y corrígelo

- La región de Transpadana está bañada por el mar Tirreno.
- El volcán Vesubio se encuentra junto a la ciudad de Roma.
- La cordillera de los Apeninos está situada en la zona norte de Italia.
- En la isla de Sicilia destaca el río Tiber.
- La región de Campania está bañada por el mar Adriático.
- Roma se encuentra en la región de Etruria.
- La isla de Cerdeña es la situada más al norte.

9. Identifica donde irías si quisieras (indica en la zona concreta si se refiere a Grecia o a Roma)

- ¿Dónde iría si quisiera participar en los Juegos Olímpicos?
- ¿Dónde iría si quisiera contemplar la ciudad que se disputaron Atenas y Poseidón?
- ¿Dónde iría si quisiera comentar algunas poesías con Safo?
- ¿Dónde iría si quisiera participar en el acertijo de la Esfinge?
- ¿Dónde iría si quisiera recibir de cerca la inspiración de las Musas?
- ¿Dónde iría si quisiera practicar el sardo que has aprendido?
- ¿Dónde iría si quisiera visitar “la ciudad de en medio”?
- ¿Dónde iría si quisiera visitar la región de los tirrenos?
- ¿Dónde iría si quisiera visitar al causante de la destrucción de Pompeya?

10. ¿De los siguientes nombres geográficos, señala cuáles se refieren a Grecia (G) y cuáles se refieren a Itálica (I)?

- | | | | |
|-------------|-----------|----------------|---------------|
| • Delfos | • Atenas | • Monte Olimpo | • Troya |
| • Campania | • Lesbos | • Etruria | • Mar Tirreno |
| • Macedonia | • Olimpia | • Roma | |
| • Nápoles | | | |

