



Síndrome de despoblamiento de colmenas

Pregunta 1 / 5

Consulta el artículo «Síndrome de despoblamiento de colmenas» que encontrarás a la derecha. Escribe tu respuesta a la pregunta.

Comprender el síndrome de despoblamiento de colmenas es importante para las personas que crían las abejas y las estudian, pero el síndrome de despoblamiento de colmenas no solo afecta a las abejas. Las personas que estudian los pájaros también han observado sus efectos. El girasol es una fuente de alimento tanto para las abejas como para algunos pájaros: las abejas se alimentan del néctar del girasol, mientras que los pájaros se alimentan de sus semillas.

Dada esta relación, ¿por qué la desaparición de las abejas puede provocar una disminución de la población de pájaros?

SÍNDROME DE DESPOBLAMIENTO DE COLMENAS

Un fenómeno alarmante amenaza a las colmenas de abejas de todo el mundo. Este fenómeno se conoce como síndrome de despoblamiento de colmenas. El despoblamiento de colmenas se produce cuando las abejas abandonan la colmena. Separadas de la colmena, las abejas mueren, por lo que el problema del despoblamiento de colmenas ha causado la muerte de decenas de miles de millones de abejas. Los expertos creen que el despoblamiento de colmenas está causado por varios factores.





Síndrome de despoblamiento de colmenas

Pregunta 2 / 5

Consulta el artículo «Exposición al imidacloprid» que encontrarás a la derecha. Selecciona una opción de los menús desplegables para completar la frase.

Describe el experimento realizado por los expertos completando la siguiente frase.

Los investigadores comprobaron el efecto

Selecciona

en

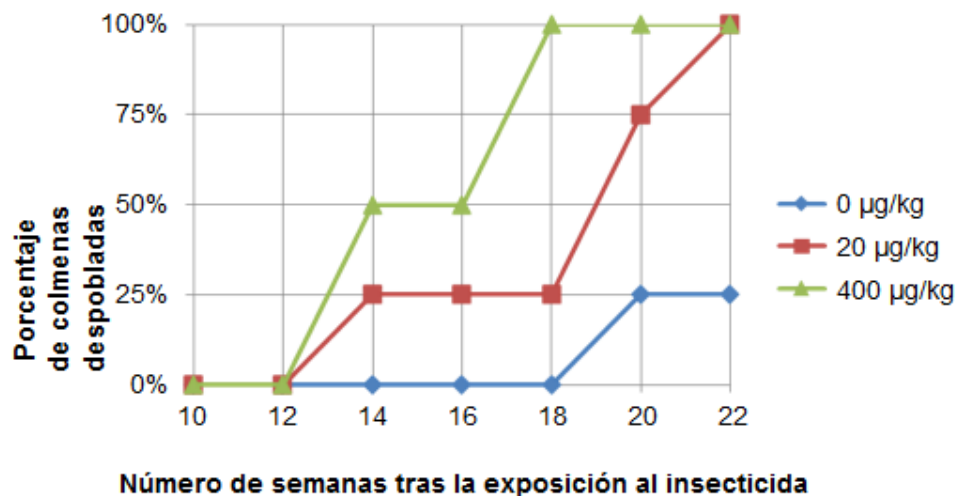
Selecciona

SÍNDROME DE DESPOBLAMIENTO DE COLMENAS Exposición al imidacloprid

Los científicos creen que el síndrome de despoblamiento de colmenas está causado por diversos factores. Una posible causa es el insecticida imidacloprid, que puede ocasionar que las abejas pierdan el sentido de la orientación cuando están fuera de la colmena.

Los expertos han hecho pruebas para comprobar si la exposición al imidacloprid provoca el despoblamiento de las colmenas. En algunas colmenas se añadió este insecticida al alimento de las abejas durante tres semanas. Se expuso a diversas colmenas a diferentes concentraciones del insecticida, medidas en microgramos de insecticida por kilogramo de alimento ($\mu\text{g}/\text{kg}$). Otras colmenas no fueron expuestas a ningún insecticida.

Ninguna colmena se despobló inmediatamente tras la exposición al insecticida. Sin embargo, al llegar a la semana 14 algunas de las colmenas ya habían sido abandonadas. El gráfico siguiente recoge los resultados observados:





Síndrome de despoblamiento de colmenas

Pregunta 3 / 5

Consulta el artículo «Exposición al imidacloprid» que encontrarás a la derecha. Haz clic en una opción para responder a la pregunta.

¿Cuál de las siguientes conclusiones coincide con los resultados que se muestran en el gráfico?

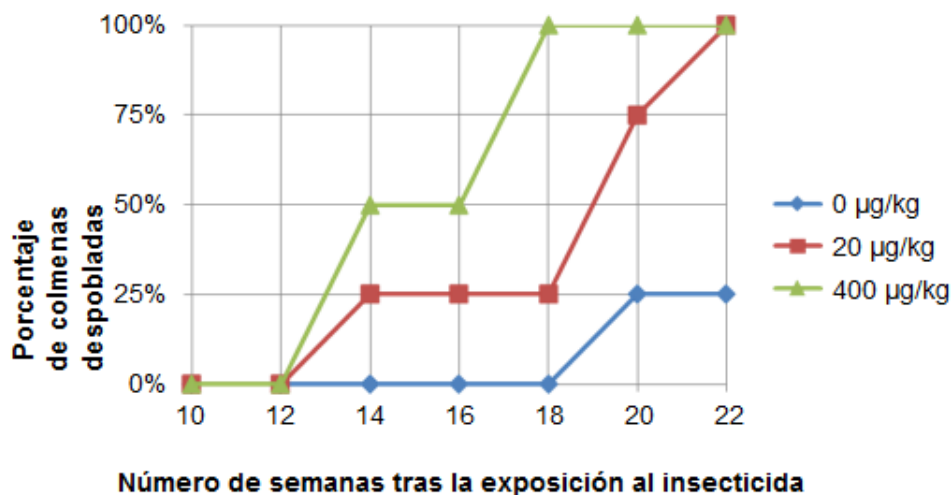
- Las colmenas expuestas a una concentración más alta de imidacloprid tienden a despoblarse antes.
- Las colmenas expuestas a imidacloprid tienden a despoblarse en un periodo de 10 semanas de exposición.
- La exposición al imidacloprid en concentraciones inferiores a 20 $\mu\text{g}/\text{kg}$ no daña a las colmenas.
- Las colmenas expuestas al imidacloprid no sobreviven más de 14 semanas.

SÍNDROME DE DESPOBLAMIENTO DE COLMENAS Exposición al imidacloprid

Los científicos creen que el síndrome de despoblamiento de colmenas está causado por diversos factores. Una posible causa es el insecticida imidacloprid, que puede ocasionar que las abejas pierdan el sentido de la orientación cuando están fuera de la colmena.

Los expertos han hecho pruebas para comprobar si la exposición al imidacloprid provoca el despoblamiento de las colmenas. En algunas colmenas se añadió este insecticida al alimento de las abejas durante tres semanas. Se expuso a diversas colmenas a diferentes concentraciones del insecticida, medidas en microgramos de insecticida por kilogramo de alimento ($\mu\text{g}/\text{kg}$). Otras colmenas no fueron expuestas a ningún insecticida.

Ninguna colmena se despobló inmediatamente tras la exposición al insecticida. Sin embargo, al llegar a la semana 14 algunas de las colmenas ya habían sido abandonadas. El gráfico siguiente recoge los resultados observados:





Síndrome de despoblamiento de colmenas

Pregunta 4 / 5

Consulta el artículo «Exposición al imidacloprid» que encontrarás a la derecha. Escribe tu respuesta a la pregunta.

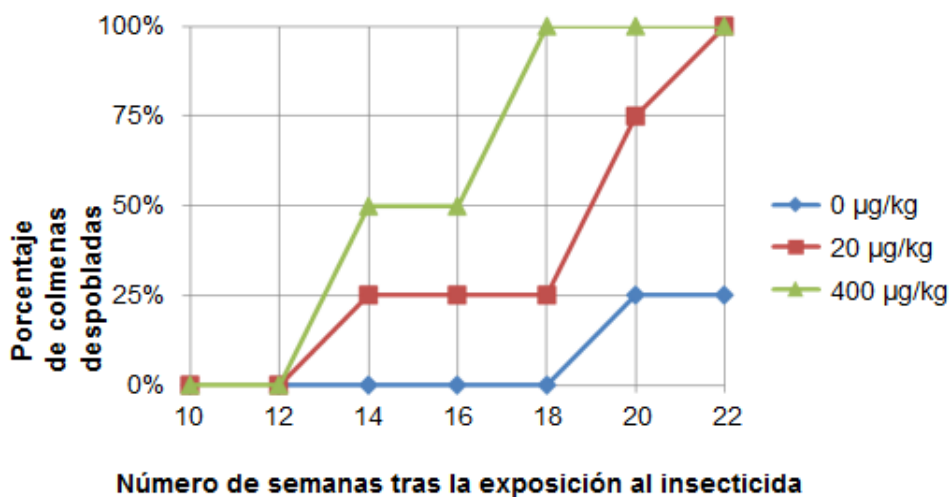
Observa el resultado obtenido en la semana 20 en aquellas colmenas que los investigadores no expusieron al imidacloprid ($0 \mu\text{g}/\text{kg}$). ¿Qué indica sobre las causas del despoblamiento de las colmenas estudiadas?

SÍNDROME DE DESPOBLAMIENTO DE COLMENAS Exposición al imidacloprid

Los científicos creen que el síndrome de despoblamiento de colmenas está causado por diversos factores. Una posible causa es el insecticida imidacloprid, que puede ocasionar que las abejas pierdan el sentido de la orientación cuando están fuera de la colmena.

Los expertos han hecho pruebas para comprobar si la exposición al imidacloprid provoca el despoblamiento de las colmenas. En algunas colmenas se añadió este insecticida al alimento de las abejas durante tres semanas. Se expuso a diversas colmenas a diferentes concentraciones del insecticida, medidas en microgramos de insecticida por kilogramo de alimento ($\mu\text{g}/\text{kg}$). Otras colmenas no fueron expuestas a ningún insecticida.

Ninguna colmena se despobló inmediatamente tras la exposición al insecticida. Sin embargo, al llegar a la semana 14 algunas de las colmenas ya habían sido abandonadas. El gráfico siguiente recoge los resultados observados:



**Síndrome de despoblamiento de colmenas**

Pregunta 5 / 5

Haz clic en una opción para responder a la pregunta

Los científicos han propuesto otras dos causas para el síndrome de despoblamiento de colmenas:

- Un virus que infecta y mata a las abejas.
- Una mosca parásita que pone huevos en el abdomen de las abejas.

¿Cuál de los siguientes hallazgos respalda la afirmación de que las abejas mueren a causa de un virus?

- Se hallaron huevos de otro organismo en las colmenas.
- Se encontraron insecticidas en el interior de las células de las abejas.
- Se encontró en las células de las abejas ADN que no era de abeja.
- Se encontraron abejas muertas en las colmenas.