

# TAREA DE PRIMERO DE PRIMARIA

Semana del 08 AL 12 DE JUNIO de 2020

Queridas familias de Primero:

Deseamos que se encuentren todos bien.

- Esta semana tendrán videoconferencia con el profesor de Inglés. Ya les informará del día y la hora exacta.

## LENGUA:

- Lectura en voz alta, en presencia de un adulto: 10 minutos al día.
- Libro Cuatro en rayas-2º trimestre: Páginas: 164 y 165.
- Cuadernillo rojo de Lengua, Tercer Trimestre: Página 9.

LENGUA


NOMBRE Y APELLIDOS \_\_\_\_\_

Forma palabras

Diagram illustrating the formation of the syllable **car** (in a green oval) from the words **peta**, **tón**, and **ne**. Each word is written on a set of three horizontal lines.

Diagram illustrating the formation of the syllable **cas** (in an orange oval) from the words **cara**, **taña**, and **cada**. Each word is written on a set of three horizontal lines.

Diagram illustrating the formation of the syllable **can** (in a pink oval) from the words **dado**, **grejo**, and **sado**. Each word is written on a set of three horizontal lines.

 Haz una frase con cada palabra

pregunta

garganta

segundo

\_\_\_\_\_

\_\_\_\_\_

\_\_\_\_\_

\_\_\_\_\_

\_\_\_\_\_

Recorta y pega donde corresponda.

¿Qué hacen?

Yo




[Empty dashed box for pasting]

Tú




[Empty dashed box for pasting]

El



[Empty dashed box for pasting]

Ella



[Empty dashed box for pasting]

Nosotros



[Empty dashed box for pasting]

Ustedes



[Empty dashed box for pasting]

nadan

duerme

corre

canta

barre


estudiamos

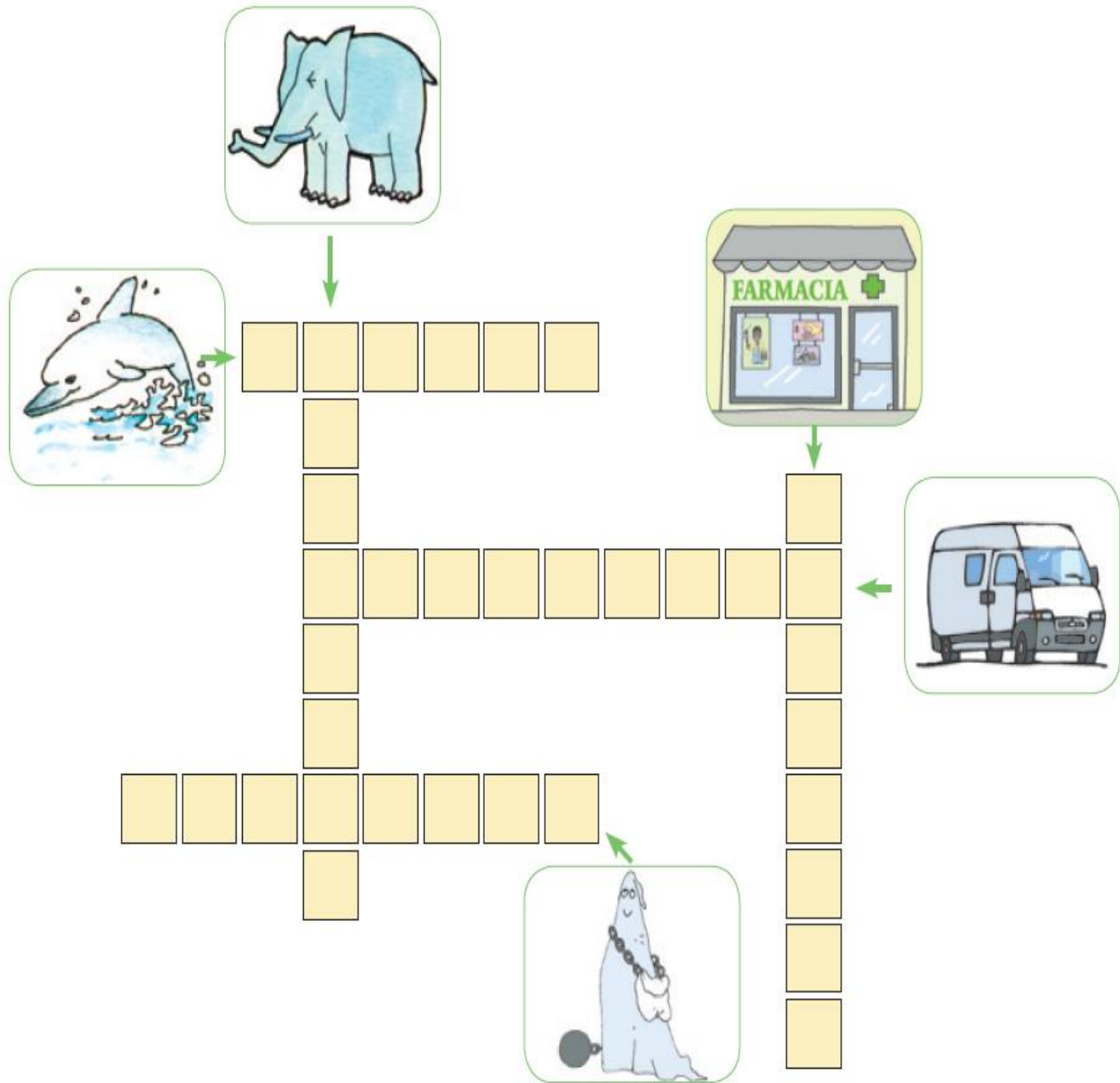


El Verbo



Semana 21 Ficha 93

 Resuelve el crucigrama



The crossword puzzle consists of a grid of yellow squares. The clues are as follows:

- Across 1:** A blue elephant. The grid has 6 squares.
- Across 2:** A blue dolphin. The grid has 6 squares.
- Across 3:** A pharmacy building with a sign that says "FARMACIA" and a green cross. The grid has 10 squares.
- Across 4:** A white van. The grid has 10 squares.
- Across 5:** A blue witch with a black hat and a broom. The grid has 8 squares.

The grid structure is as follows:

- Row 1: 6 squares (Elephant)
- Row 2: 6 squares (Dolphin)
- Row 3: 1 square (Dolphin/Elephant intersection)
- Row 4: 10 squares (Pharmacy)
- Row 5: 1 square (Pharmacy/Van intersection)
- Row 6: 10 squares (Van)
- Row 7: 1 square (Van/Witch intersection)
- Row 8: 1 square (Witch)
- Row 9: 8 squares (Witch)
- Row 10: 1 square (Witch)

# MATEMÁTICAS

Nombre: \_\_\_\_\_ Fecha: \_\_\_\_\_

1. Resta.

$$\begin{array}{r} 92 \\ - 11 \\ \hline \end{array} \quad \begin{array}{r} 43 \\ - 31 \\ \hline \end{array} \quad \begin{array}{r} 69 \\ - 28 \\ \hline \end{array} \quad \begin{array}{r} 87 \\ - 06 \\ \hline \end{array} \quad \begin{array}{r} 48 \\ - 40 \\ \hline \end{array}$$

2. Pide ayuda para ver el video "mayor, menor e igual que" 2:05 minutos

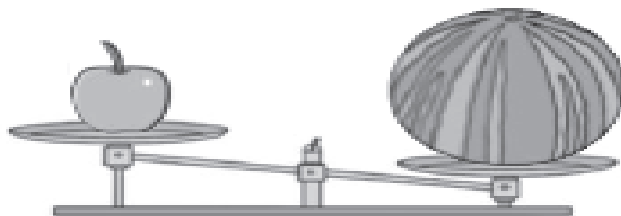
<https://www.youtube.com/watch?v=EIlboJvDtQM>

3. Ahora escribe el signo  $>$ ,  $<$  e  $=$  entre cada pareja de números.

25		52
96		90
58		58
23		23

45		45
60		68
92		29
89		98

4. ¿Qué fruta pesa más?



manzana

sandía

\* Cuaderno de Matemáticas 3º Trimestre. Páginas 9 y 22

- De la página 16, sólo ejercicio 1      - De la página 20, sólo ejercicio 3

# NATURALES

Nombre: \_\_\_\_\_ Fecha: \_\_\_\_\_

1. Pide ayuda para ver el video: "Animales vertebrados e invertebrados"

<https://www.youtube.com/watch?v=RDUjggMTSAI>

2. Busca el nombre de los animales en la sopa de letras y píntalos.



TIGRE



ELEFANTE



LEÓN



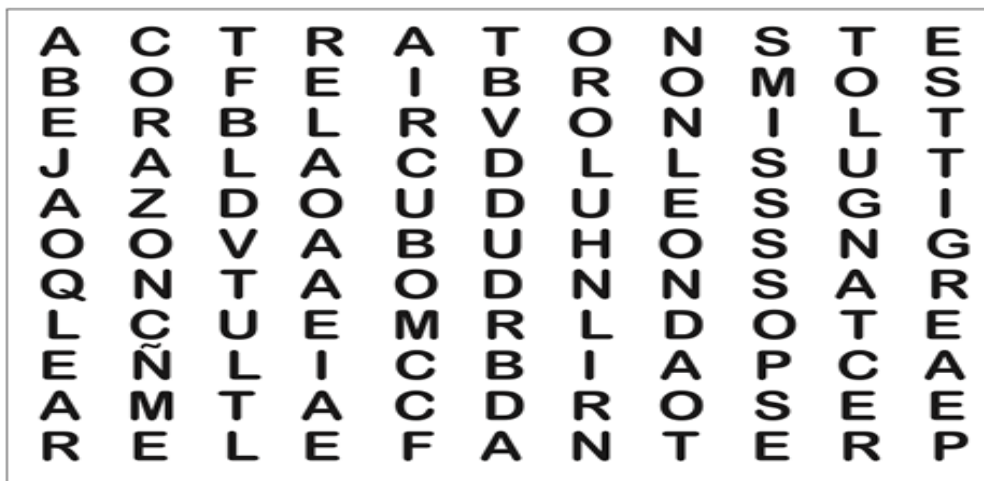
RATÓN



BUHO



ABEJA



3. Contesta.

¿Cuáles son vertebrados? \_\_\_\_\_

¿Por qué? \_\_\_\_\_

¿Hay algún invertebrado? \_\_\_\_\_ ¿Cuál? \_\_\_\_\_

Escribe el nombre de dos invertebrados. \_\_\_\_\_

**PLÁSTICA:** El juego de las diferencias.

Nombre: \_\_\_\_\_ Fecha: \_\_\_\_\_

1. Tacha con color las diferencias que encuentres entre estos dos dibujos.



2. Elige un animal del ejercicio anterior, dibújalo y píntalo.


# MÚSICA

NOMBRE Y APELLIDOS \_\_\_\_\_

1. RECORDAMOS: SONIDO AGUDO Y SONIDO GRAVE.

## La altura de los sonidos

q Imita los sonidos de cada elemento. Después, colorea los que corresponden al símbolo que se indica.



2. ESCUCHA EL MUSICUENTO "DE CAMINO AL COLEGIO":

Mientras lo escuchas, levanta la mano si oyes un **sonido agudo**, y baja la mano si escuchas un **sonido grave**.

Para ello, pide a un adulto que te ponga este enlace en Internet:

<https://www.youtube.com/watch?v=IHhGU-4I30c&list=UUQ6-QFnaJZnhbcXMvWv2zbA&index=3>



## VALORES y EMOCREA.

NOMBRE Y APELLIDOS \_\_\_\_\_

\* TE TRAEMOS UN CUENTO sobre el VALOR DEL ESFUERZO. Se titula "SEMILLAS".

1. Pide a un adulto que te busque en Internet:

<https://www.youtube.com/watch?v=8TAGVUYJw1o>

2. ¿Con qué amigos-as tuyos te gustaría hacer algo importante aunque costara mucho **esfuerzo**?

---

---

3. ¿Qué has aprendido de este cuento?

---

---

Recuerden: Esta semana deben enviar sólo las tareas de *Lengua y Matemáticas* en un solo correo a cada tutora.  
Muchas gracias por todo, familia.