

Nombre \_\_\_\_\_ Fecha \_\_\_\_\_


**1** Piensa y dibuja en su lugar.





peatón



vehículo



**2** Observa y colorea los semáforos según corresponda.



Nombre \_\_\_\_\_ Fecha \_\_\_\_\_

1 Observa la forma de los letreros y escribe en su lugar.

edificios bajos

muchos habitantes

calles anchas

edificios altos

pocos habitantes

calles estrechas

En los pueblos hay \_\_\_\_\_  
 \_\_\_\_\_  
 \_\_\_\_\_



Tienen \_\_\_\_\_  
 \_\_\_\_\_  
 \_\_\_\_\_  
 y \_\_\_\_\_  
 \_\_\_\_\_

En las ciudades hay \_\_\_\_\_  
 \_\_\_\_\_  
 \_\_\_\_\_




Tienen \_\_\_\_\_  
 \_\_\_\_\_  
 \_\_\_\_\_  
 y \_\_\_\_\_  
 \_\_\_\_\_

► Ahora, piensa y escribe **más** o **menos** en cada caso.



En un pueblo hay \_\_\_\_\_  
 \_\_\_\_\_  
 habitantes que en una ciudad.



En una ciudad hay \_\_\_\_\_  
 \_\_\_\_\_  
 edificios que en un pueblo.