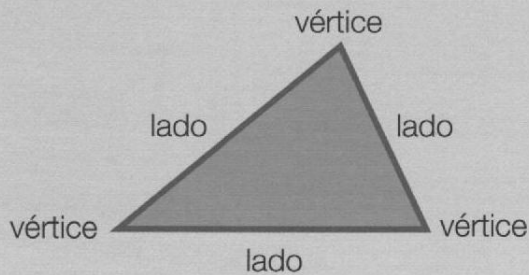


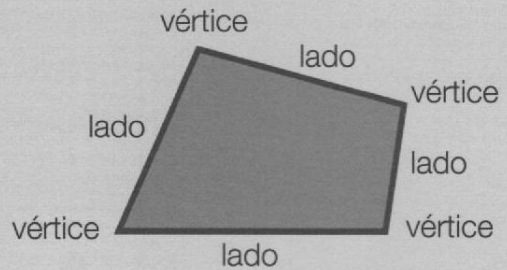
Triángulos y cuadriláteros

Observa estos polígonos.

TRIÁNGULO





CUADRILÁTERO




- Un triángulo es un polígono que tiene lados y vértices.
- Un cuadrilátero es un polígono que tiene lados y vértices.

1 Cuenta los lados y los vértices de cada polígono y colorea.




 los triángulos

 los cuadriláteros



2 ¿Qué tipo de polígonos son?

Completa.



Este polígono se llama rombo.



El cuadrado, el _____ y el _____

tienen _____ lados. Son _____