

# Números del 600 al 799

En la verbena están vendiendo papeletas para una rifa. ¿Cuántas papeletas han vendido?

Han vendido 6 tacos de 100 papeletas, 2 tacos de 10 papeletas y 3 papeletas sueltas.



C	D	U
6	2	3

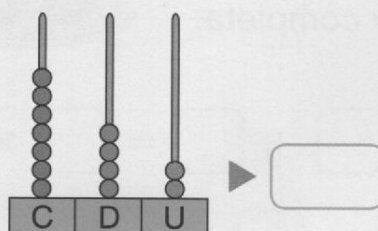

$$6C + 2D + 3U$$

$$600 + 20 + 3 = 623$$

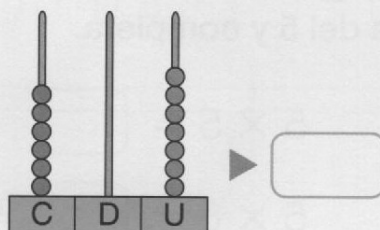
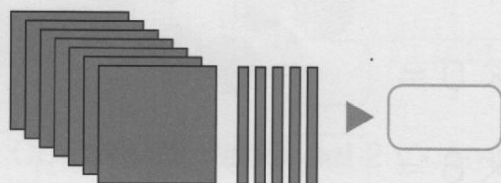
623 ► seiscientos veintitrés

Han vendido \_\_\_\_\_

## 1 Escribe el número.



¡Cuidado con los ceros!



## 2 Completa y escribe cómo se lee cada número.

795 ►  C +  D +  U =  +  +

Setecientos \_\_\_\_\_

648 ►  C +  D +  U =  +  +

\_\_\_\_\_