

ACTIVIDADES ÁREA DE MATEMÁTICAS 3º CURSO



Lunes 23 de marzo de 2020

Las actividades las debes hacer en la libreta.

No te olvides de poner la fecha. Y además repasar las tablas

1) Escribe los números que están formados por:

a) Seis decenas de mil y tres decenas →

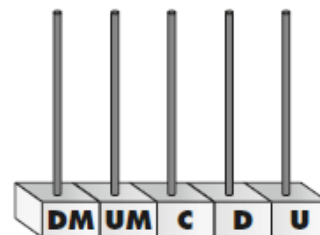
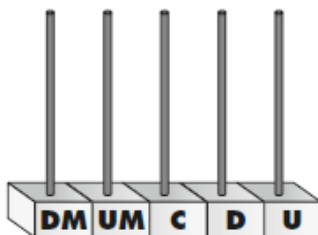
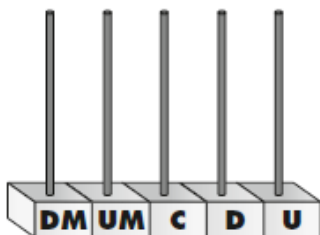
b) Tres decenas de millar y cinco unidades →

c) Dos decenas de millar, dos unidades de millar y tres unidades →

d) Sesenta unidades de millar, tres centenas y dos unidades →

2) Representa en los ábacos estos números:

64 578 - 29 901 - 68 495



Martes 24 de marzo de 2020

Las actividades las debes hacer en la libreta.

No te olvides de poner la fecha. Y además repasar las tablas

1) Realiza estas operaciones:

$$\begin{array}{r} \text{a) } 8543 \\ \quad 309 \\ + 6072 \\ \hline \end{array}$$

.....

$$\begin{array}{r} \text{b) } 2090 \\ \quad 538 \\ + 639 \\ \hline \end{array}$$

.....

$$\begin{array}{r} \text{c) } 7060 \\ - 2597 \\ \hline \end{array}$$

.....

$$\begin{array}{r} \text{c) } 8002 \\ - 997 \\ \hline \end{array}$$

.....

Miércoles 25 de marzo de 2020

Las actividades las debes hacer en la libreta.

No te olvides de poner la fecha. Y además repasar las tablas

1) Completa.

x	0	1	2	3	4	5	6	7	8	9	10	11	12
2	0	2	4										
3	0	6	12										

Jueves 26 de marzo de 2020

Las actividades las debes hacer en la libreta.

No te olvides de poner la fecha. Y además repasar las tablas

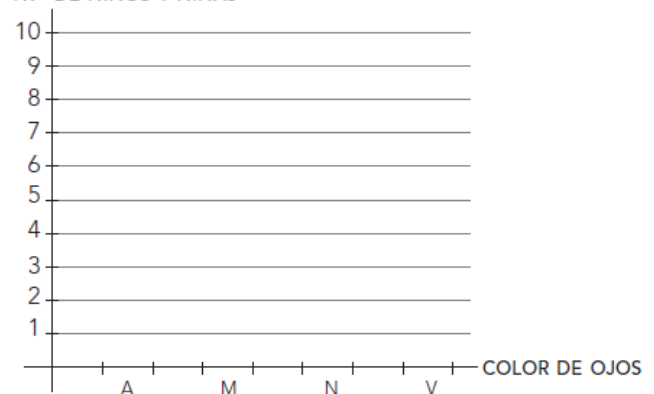
1) Ana ha recogido en su cuaderno el color de ojos de sus compañeros y compañeras de clase.

azules	azules	negros	verdes	verdes	marrones
marrones	marrones	marrones	negros	azules	verdes
marrones	verdes	marrones	marrones	azules	verdes
negros	marrones	marrones	verdes	judo	negros

Completa la tabla y construye un gráfico de barras a partir de los datos obtenidos.

Color de ojos	Recuento	Total
Azules (A)		
Marrones (M)		
Negros (N)		
Verdes (V)		

N.º DE NIÑOS Y NIÑAS





Viernes 27 de marzo de 2020

Las actividades las debes hacer en la libreta.

No te olvides de poner la fecha. Y además repasar las tablas

- 1) Elena lleva al colegio una bolsa de caramelos para repartir a sus amigos por su cumpleaños. En la bolsa hay 84 caramelos y tiene 9 amigos. ¿Cuántos caramelos podrá repartir Elena a cada amigo? ¿Cuántos le sobran?

Datos:

Operaciones:

Resultado:(recuerda hacer una frases)

Las tutoras del 2º ciclo
Conchi Pacheco y Rosa Plasencia

Los Realejos a 23 de marzo de 2020