



RECUERDA:

Las actividades las debes hacer en la libreta.

No te olvides de poner la fecha.

Acuérdate de escribir en todos los problemas: Datos: ; Operaciones: y Solución:

Debes hacer la letra clara y limpia, porque es otra persona quien va a leer lo que tú escribas.

Para contestar debes hacer frases (no vale escribir una sola palabra).

Semana del Lunes 30 al viernes 4 de abril de 2020

1. Un camión transporta 25 caballos en cada viaje. ¿Cuántos caballos transportará en tres viajes?


Datos

Operaciones

Resultado

Transportará

..... caballos.



2. En una caja caben 15 botellas. ¿Cuántas botellas caben en cuatro cajas?

Datos

Operaciones

Resultado

En cuatro cajas

hay botellas.



3. Enrique tiene 80 céntimos y compra una bolsa de pipas de 35 céntimos. ¿Cuánto dinero le queda?

Datos

Operaciones

Resultado

Le queda

..... céntimos.



Las actividades las debes hacer en la libreta. No te olvides de poner la fecha.

4. En una bolsa grande entran 25 canicas y en una pequeña 15 canicas.
¿Cuántas canicas tiene Ernesto que ha comprado dos bolsas grandes y una pequeña?

Datos

Operaciones

Resultado


5. Andrea tenía 50 céntimos y ha comprado dos chicles de 20 céntimos cada uno. ¿Cuánto dinero le queda?

Datos

Operaciones

Resultado

A Andrea le quedan
..... céntimos.



6. En un aparcamiento había 155 vehículos. Durante la última hora han entrado 34 coches y han salido 18 coches. ¿Cuántos vehículos quedan en el aparcamiento?

Datos

Operaciones

Resultado

Quedan en
el aparcamiento
..... vehículos.



Las actividades las debes hacer en la libreta. No te olvides de poner la fecha.


1. Marta tiene 90 céntimos. Compra un bolígrafo de 48 céntimos y un sacapuntas de 35 céntimos. ¿Cuánto dinero le queda?

Datos

Operaciones

Resultado

A Marta le quedan
..... céntimos.



2. Pedro tiene un euro. Se gasta 60 céntimos en una bolsa de patatas y después se encuentra con una moneda de 20 céntimos. ¿Cuánto dinero tiene ahora?

Datos

Operaciones

Resultado

Pedro tiene
..... céntimos.



3. Amaya tiene 72 cromos más que María. Si María tiene 314 cromos, ¿cuántos cromos tienen entre las dos?

Datos

Operaciones

Resultado

Tienen
..... cromos.





Las tutoras del 2º ciclo

Agustín Marcos y Rosa Plasencia

Los Realejos a 30 de marzo de 2020