



Nombre _____ Fecha _____

AMPLIACIÓN

1 Dibuja las agujas para que los relojes marquen la misma hora.




2 Resuelve.

- Un bolígrafo cuesta 45 céntimos. Para pagar, Miguel da 1 €. ¿Cuánto le devuelven?



1 € = céntimos



Le devuelven

- Un cuaderno cuesta 1,75 €. Ana tiene 95 céntimos. ¿Cuánto le falta?



1,75 € = céntimos

