
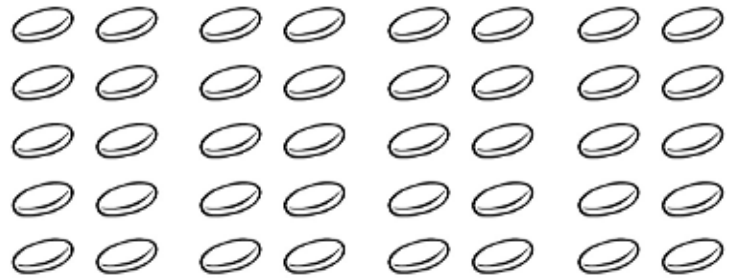


Nombre \_\_\_\_\_ Fecha \_\_\_\_\_

1 Haz grupos de 10 y completa.


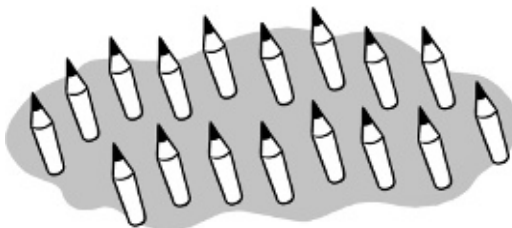

 decenas

 decenas

2 Cuenta y escribe.


 unidades

 decena =  unidades

3 Rodea 10 y completa.


 decena y  unidades

 decena y  unidades