



Nombre _____ Fecha _____

1 ¿Cuántas bicicletas hay en total? Cuenta y completa.

REFUERZO




y son .

$$\square + \square = \square$$

Hay bicicletas.

2 ¿Cuántas ardillas hay al final? Completa.



Había . Vienen . Hay .

$$\square + \square = \square$$

Al final hay ardillas.