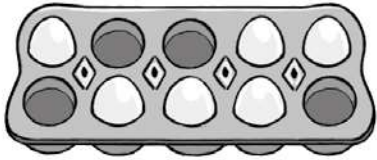


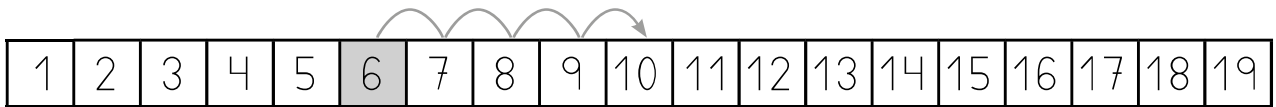
Nombre \_\_\_\_\_ Fecha \_\_\_\_\_

1 ¿Cuántos faltan? Observa, cuenta y completa.



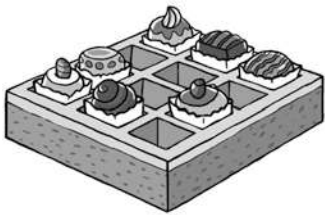
Hay  huevos. ▶  $10 - 6$

Cuento desde  hasta



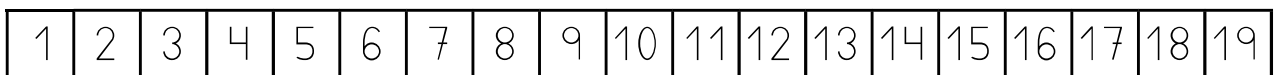
-  =

Faltan  huevos.



Hay  pasteles. ▶  $12 - 7$

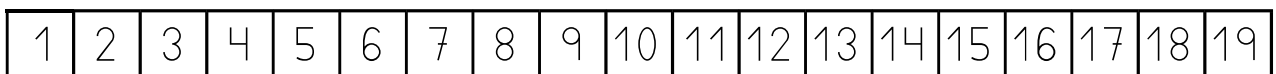
Cuento desde  hasta .



-  =

Faltan  pasteles.

2 Cuenta y calcula las restas.



$12 - 6 = \text{input type="text"}$

$15 - 9 = \text{input type="text"}$

$18 - 8 = \text{input type="text"}$