

2 Calcula la suma y escribe la multiplicación correspondiente.


• $2 + 2 + 2 + 2 + 2 = \square \triangleright 2 \times \square = \square$

• $7 + 7 + 7 = \square \triangleright \square \times \square = \square$

• $4 + 4 + 4 + 4 = \square \triangleright \square \times \square = \square$


3 Haz un dibujo y completa.

- Pablo dibuja 2 cuadros con 4 árboles en cada uno.
¿Cuántos árboles dibuja en total?



$4 + 4 = 4 \times \square = \square \triangleright$ Dibuja

- En la mesa hay 4 platos con 2 naranjas en cada plato.
¿Cuántas naranjas hay en total?




$\square + \square + \square + \square = \square \times \square = \square$

Hay



Completa el dibujo para que se pueda calcular cuántas manzanas hay en total con una suma y con una multiplicación.



- ▶ ¿Tienen todos los platos el mismo número de manzanas?
- ▶ ¿Cuántas manzanas hay en cada plato? ¿Cuántos platos hay?
- ▶ ¿Cuántas manzanas hay en total?