


La suma y la multiplicación

¿Cuántas flores hay en total en estos jarrones?



Fíjate:

- En cada jarrón hay 6 flores.
- Hay 3 jarrones.

Suma ▶ $6 + 6 + 6 = 18$

Multiplicación ▶ $6 \times 3 = 18$

Hay 18 flores.


Sumo el 6
3 veces.

Multiplico
6 por 3.



1 Cuenta y completa cuántos hay.

- ¿Cuántos peces hay?




Suma ▶ $8 + 8 = \square$

Multiplicación ▶ $8 \times \square = \square$

Hay 16

- ¿Cuántas mariquitas hay?




Suma ▶ $\square + \square + \square = \square$

Multiplicación ▶ $\square \times \square = \square$

Hay 12

- ¿Cuántos pájaros hay?



$\square + \square + \square + \square = \square$

$\square \times \square = \square$

Hay 10