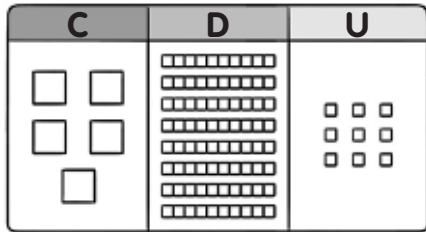


Nombre _____ Fecha _____

REFUERZO

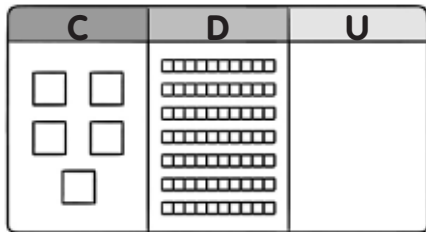
1 Completa y escribe el número representado.



$$\square C + \square D + \square U$$

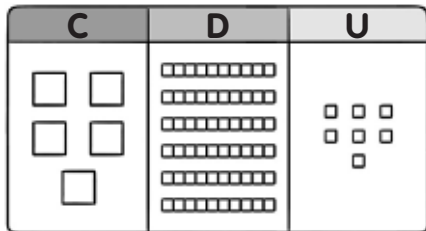
$$\square + \square + \square = \square$$

quinientos



$$\square C + \square D$$

$$\square + \square = \square$$



$$\square C + \square D + \square U$$

$$\square + \square + \square = \square$$

2 Escribe con un número el dato de cada noticia.

<p>Se han fichado quinientos cuarenta y cinco nuevos jugadores.</p>	<p>Se han recogido quinientos tres perros abandonados.</p>
<p>=====</p>	<p>=====</p>