



Nombre _____ Fecha _____

1 ¿Cuántas frutas hay? Cuenta y completa.



5 y 3 son .
 + =




y son .
 + =



y son .
 + =

2 ¿Cuántos perros hay al final? Calcula.



Había . Vienen . Hay .

+ = Al final hay .