

# PRIMER TRIMESTRE


## Unidad 3. Matemáticas

AA

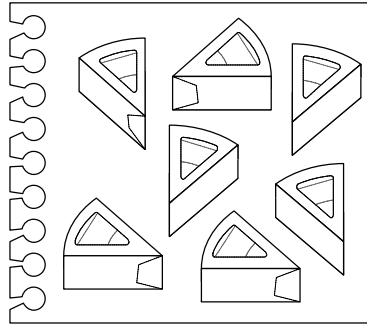
Nombre y apellidos: .....

Curso: ..... Fecha: .....

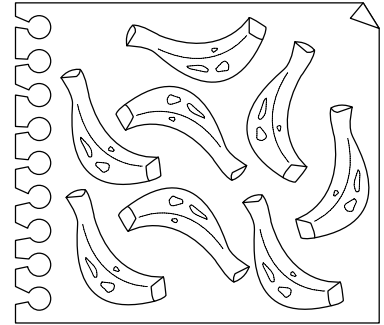
 Cuenta y rodea el número que corresponda.




6 - 8 - 9 - 7



8 - 7 - 6 - 9



7 - 8 - 9 - 6

 Suma y resta.

$6 + 2 = \square$

$5 + 1 = \square$

$7 + 1 = \square$

$5 + 4 = \square$

$8 + 1 = \square$

$8 - 4 = \square$

$9 - 5 = \square$

$9 - 4 = \square$

$7 - 1 = \square$

$8 - 3 = \square$

 Completa.

