


# La tabla del 2

¿Cuántas patas tienen en total estas cigüeñas?

Cada cigüeña tiene 2 patas.

Hay 5 cigüeñas.




$$2 + 2 + 2 + 2 + 2 = 10$$

$$2 \times 5 = 10$$


Tienen \_\_\_\_\_

1 ¿Cuántas cerezas hay? Cuenta y completa.



$$2 + \square = 2 \times \square = \square$$

Hay \_\_\_\_\_



$$\square + \square + \square + \square = \square \times \square = \square$$

Hay \_\_\_\_\_

2 Consulta la tabla del 2 y completa.

$$2 \times 1 = \square \quad 2 \times 0 = \square \quad 2 \times 7 = \square \quad 2 \times 6 = \square$$

$$2 \times 3 = \square \quad 2 \times 2 = \square \quad 2 \times 8 = \square \quad 2 \times 9 = \square$$

3 Haz un dibujo y contesta.

Hay 3 bolsas y en cada bolsa hay 2 canicas.  
¿Cuántas canicas hay en total?



$$\square \times \square = \square \rightarrow \text{Hay } \underline{\hspace{2cm}}$$