

# ACTIVIDADES ÁREA DE MATEMÁTICAS 4º CURSO

## Semana del 2 al 5 de junio de 2020

### RECUERDA:

Las actividades las debes hacer en la libreta. No te olvides de poner la fecha.

Acuérdate de escribir en todos los problemas:

Datos: Operaciones: y Solución:



Debes hacer la letra clara y limpia, porque es otra persona quien va a leer lo que tú escribas.

Para contestar debes hacer frases (no vale escribir una sola palabra).

### Martes 2 de junio de 2020

Claudia juega a representar números de diferentes formas: con el ábaco, con cartas, con dados... ¿Quieres ayudarla?

- 1** Claudia ha representado con el ábaco estos números. Escribe con letras cada número representado.



.....

.....



.....

.....

.....

.....

- 2** De una baraja, Claudia ha sacado seis cartas al azar. ¿Cuál es el mayor y el menor número posible que puede formar?



MAYOR →

MENOR →

## Miércoles 3 de junio de 2020

**4** Localiza en esta sopa los números que se indican.

- Trescientos cuarenta mil novecientos ocho
- Cincuenta y ocho mil noventa y dos
- Ciento ochenta y dos mil quinientos veintisiete
- Ochocientos seis mil setecientos setenta y cinco
- Cuatro millones ciento cincuenta ocho mil novecientos cuatro

9	3	4	0	9	0	8
1	6	1	5	2	1	0
6	2	5	3	4	9	6
0	1	8	2	5	2	7
7	0	9	1	6	4	7
5	8	0	9	2	3	5
9	3	4	4	0	2	4

**5** Averigua el número que Claudia ha formado con las cartas de la baraja.



- 1.º Es un número de seis cifras.
- 2.º La cifra de las centenas de millar es el triple de la de las decenas que es tres.
- 3.º La cifra de las decenas de millar es igual a la de las unidades que es cinco.
- 4.º La cifra de las unidades de millar es ocho.
- 5.º La cifra de las centenas es el menor número par.

Es el número: .....

## Jueves 4 de junio de 2020

**3** Escribe el signo mayor que (>) o menor que (<), según corresponda.

234 765 ○ 234 872    9 654 ○ 3 954    1 692 001 ○ 1 629 001

1 476 548 ○ 1 475 649    58 392 ○ 48 392    461 937 ○ 461 977

154 643 ○ 104 234    1 307 493 ○ 1 317 483    6 420 ○ 7 430

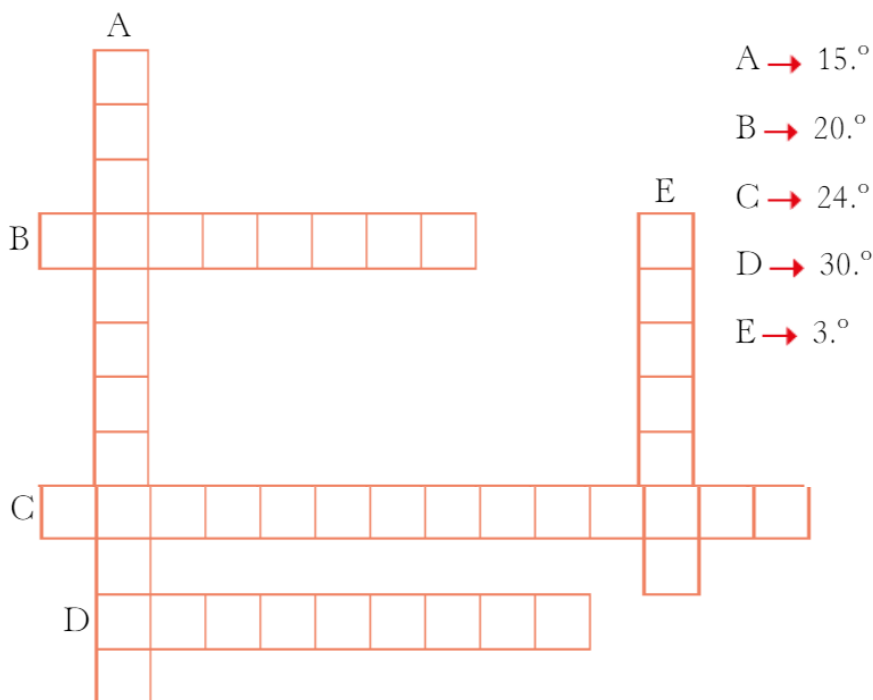
- 4 En el pueblo de Claudia viven 45 792 personas y en el de Pedro, 45972 personas. ¿En cuál hay más habitantes?

## Viernes 5 de junio de 2020

- 2 Claudia es la undécima en la fila del cine. Su amigo Marcos está ocho lugares por detrás y su amiga Sofía cinco por delante. ¿En qué posición están Marcos y Sofía?



- 3 Completa el crucigrama.



**Recuerda**  
Para saber la posición que ocupamos en una fila usamos los números ordinales.

Y ahora para terminar la semana unos juegos

[Juego 1](#)

[Juego 2](#)

[Juego 3](#)