




Jugadores	Puntos
 Felipe	27
 Francisco	15
 Carlos	38

- 55 ¿Cuántos puntos más ha conseguido Carlos que Felipe?

Operación: sumar restar

Respuesta:

- 56 ¿Cuántos puntos más ha conseguido Felipe que Francisco?

Operación: sumar restar

Respuesta:

- 57 ¿Cuántos puntos han conseguido entre los tres jugadores?

Operación: sumar restar

Respuesta:

- 58 Nuria tiene que preparar 83 platos y todavía le faltan 41.
¿Cuántos platos ha preparado?

Operación: sumar restar

Respuesta:

