


La tabla del 3

¿Cuántas ruedas tienen en total estos triciclos?



Cada triciclo tiene 3 ruedas.

Hay 4 triciclos.




$$3 + 3 + 3 + 3 = 12$$

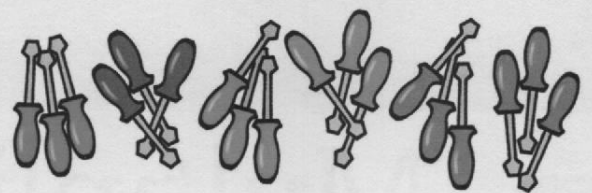
$$3 \times 4 = 12$$

Tienen _____

1 Cuenta y completa.



$$\square \times \square = \square$$



$$\square \times \square = \square$$

2 Mira la tabla y completa.

$$3 \times 2 = \square$$

$$3 \times 1 = \square$$

$$3 \times 8 = \square$$

$$3 \times 9 = \square$$

$$3 \times 3 = \square$$

$$3 \times 0 = \square$$

$$3 \times 7 = \square$$

$$3 \times 10 = \square$$

3 Observa el paquete de zumos y contesta.



• ¿Cuántos zumos hay en 4 paquetes?

$$\square \times \square = \square \rightarrow \text{Hay } \underline{\hspace{2cm}}$$

• ¿Cuántos zumos hay en 8 paquetes?

$$\square \times \square = \square \rightarrow \underline{\hspace{2cm}}$$