



Nombre _____ Fecha _____

1 ¿Cuántas canicas hay? Completa.



$$\square + \square + \square + \square + \square + \square = \square$$

$$\square \times \square = \square$$



$$\square + \square + \square + \square + \square = \square$$


$$\square \times \square = \square$$

2 ¿Cuántos hay? Completa.



Hay 3 lecheras.
Cada lechera tiene botellas.

$$\square + \square + \square = \square \blacktriangleright \square \times \square = \square$$



Hay paragüeros.
Cada paragüero tiene paraguas.

$$\square + \square + \square + \square = \square \blacktriangleright \square \times \square = \square$$

3 Completa.

$3 \times 7 = \square$	$3 \times 2 = \square$	$3 \times 9 = \square$	$3 \times 8 = \square$
$3 \times 5 = \square$	$3 \times 1 = \square$	$3 \times 0 = \square$	$3 \times 10 = \square$