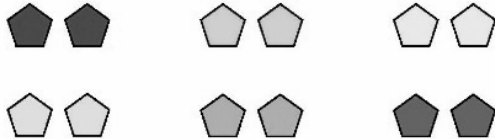


NOMBRE: _____

FECHA: _____


Las tablas del 2 y del 5

1 ¿Cuántos hay? Cuenta y completa.

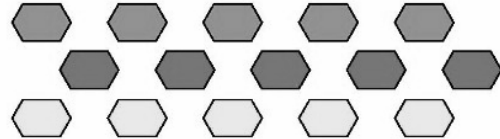


$$\square \times \square = \square$$

Hay  .



$$\square \times \square = \square$$



$$\square \times \square = \square$$

Hay  .




$$\square \times \square = \square$$

2 Completa las series y contesta.



- ¿Qué número has sumado cada vez?
- ¿De qué tabla son los números de esta serie?



- ¿Qué número has sumado cada vez?
- ¿De qué tabla son los números de esta serie?