

Nombre \_\_\_\_\_ Fecha \_\_\_\_\_

**1** ¿Qué número es? Observa y rodea.



3

4

5






3

4

5

**2** Dibuja en cada carta los corazones que faltan.



**3** ¿Quién tiene más monedas? ¿Quién menos? Escribe.



Elena



Pepe



Inés

Tiene más:


Tiene menos: