

NOMBRE: _____

Pon el número anterior y el posterior.

<input type="text"/>	Cuarenta y dos	<input type="text"/>	<input type="text"/>	11	<input type="text"/>
<input type="text"/>	Veintinueve	<input type="text"/>	<input type="text"/>	38	<input type="text"/>
<input type="text"/>	Trece	<input type="text"/>	<input type="text"/>	25	<input type="text"/>

Cuenta hacia atrás del 20 al 0 de dos en dos.

20	18									0
----	----	--	--	--	--	--	--	--	--	---

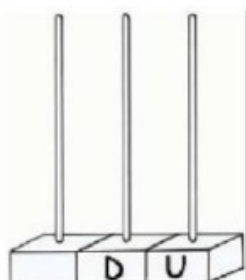
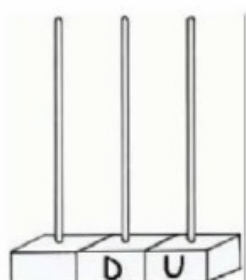
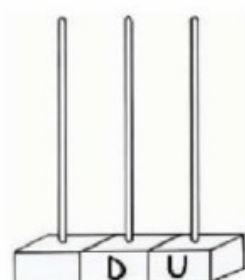
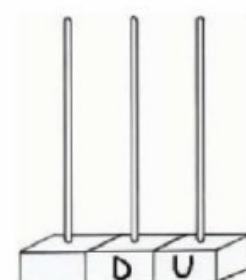
Rodea en rojo los números pares y en azul los impares.

1 – 2 – 3 – 4 – 5 – 6 – 7 – 8 – 9 – 10 – 11
12 – 13 – 14 – 15 – 16 – 17 – 18 – 19 – 20

Rodea en rojo los números que tiene 2 decenas y en azul los que tienen dos unidades.

23 – 32 – 22 – 42 – 52 – 24 – 32 – 12 – 2

Dibuja.

			
45	23	32	10