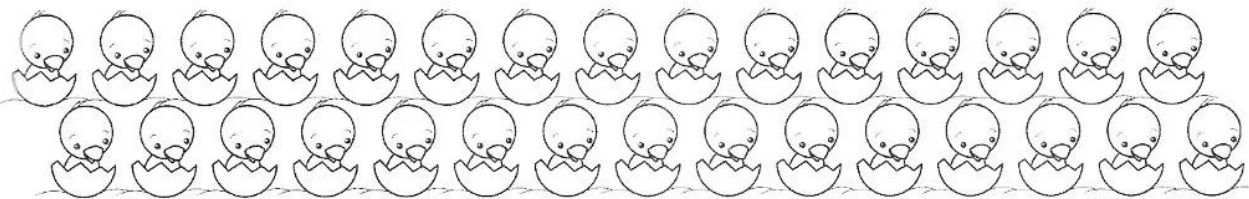


# NÚMEROS PARES Y NÚMEROS IMPARES


CUENTA LOS ANIMALITOS DE CADA HILERA Y ESCRIBE EL NÚMERO DE SU CANTIDAD TOTAL EN EL CASILLERO EN BLANCO. LUEGO, COLOREA EL CASILLERO PAR O EL CASILLERO IMPAR SEGÚN CORRESPONDA.




- 1
- 2
- 3
- 4
- 5
- 6
- 7
- 8
- 9
- 10
- 11
- 12
- 13
- 14
- 15
- 16
- 17
- 18
- 19
- 20
- 21
- 22
- 23
- 24
- 25
- 26
- 27
- 28
- 29
- 30




HAY  POLLITOS. ES UN NÚMERO  PAR  IMPAR




HAY  PERRITOS. ES UN NÚMERO  PAR  IMPAR



HAY  ELEFANTES. ES UN NÚMERO  PAR  IMPAR



HAY  JIRAFAS. ES UN NÚMERO  PAR  IMPAR



HAY  GATITOS. ES UN NÚMERO  PAR  IMPAR



HAY  MONITOS. ES UN NÚMERO  PAR  IMPAR

