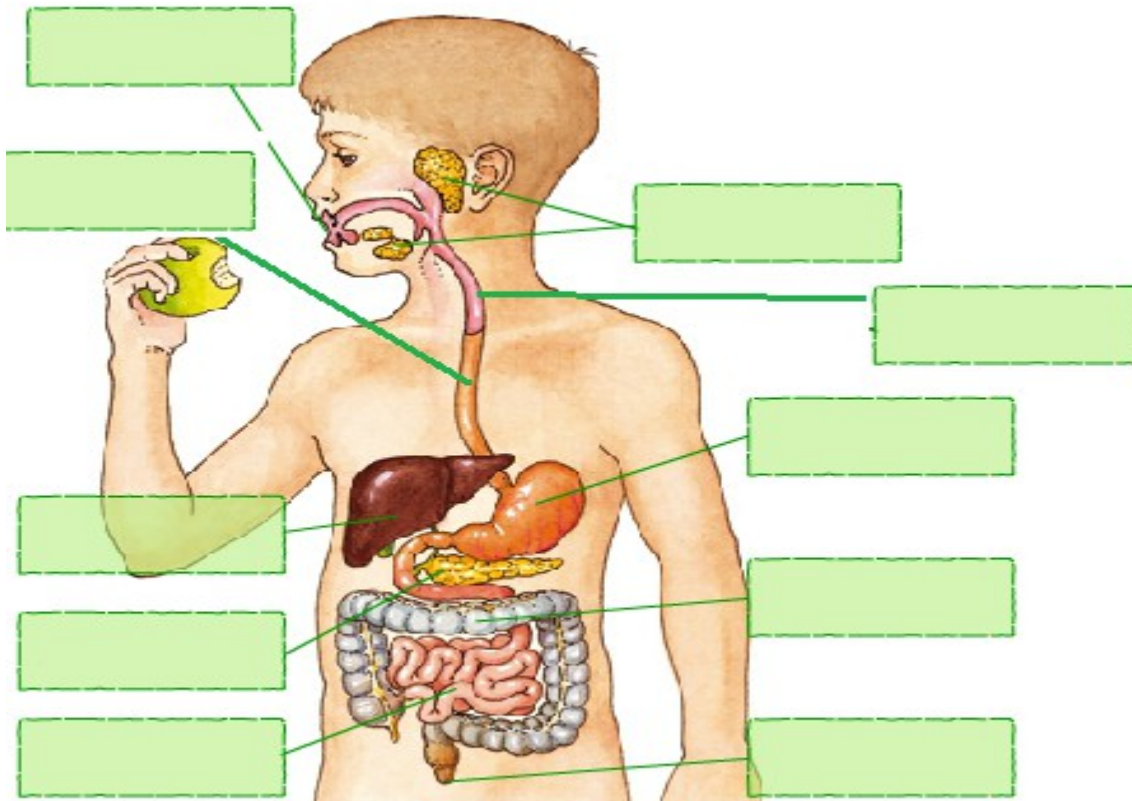


Ejercicio 1. Explica de manera general la función del aparato digestivo y la función del aparato respiratorio.

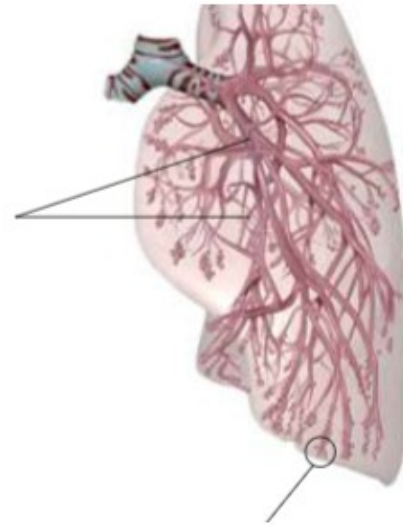
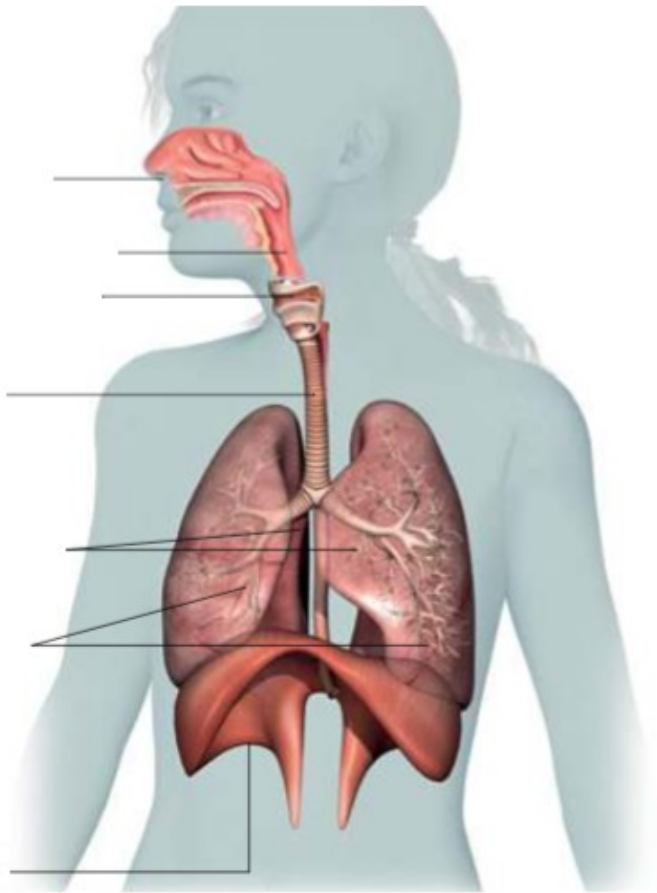
Ejercicio 2. Identifica las partes del aparato digestivo en el siguiente dibujo.



Ejercicio 3. Alvéolos y función.

Ejercicio 4. De qué tres etapas consta el proceso de la respiración, explica brevemente en qué consisten.

Ejercicio 5. Identifica las partes del aparato respiratorio en el siguiente dibujo.



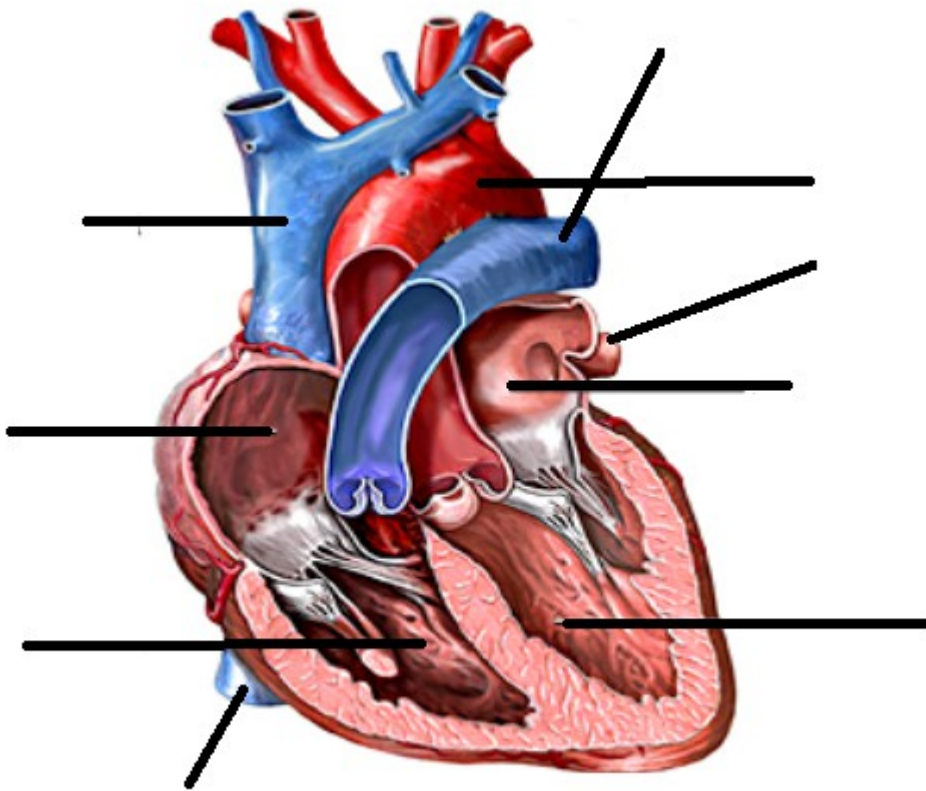
Ejercicio 6. Intestino delgado y sus función.

Ejercicio 7. Glándulas anejas y funciones.

Ejercicio 8. Estómago y función.

Ejercicio 9. Explica de manera general la función del aparato circulatorio y la función del aparato excretor.

Ejercicio 10. Completa la siguiente imagen del corazón.

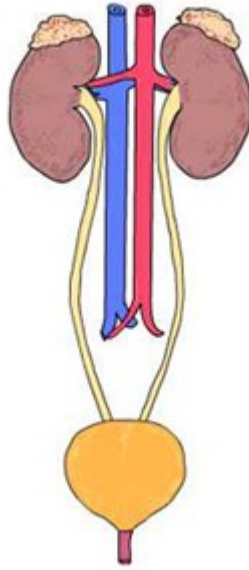


Ejercicio 11. Sangre y funciones.

Ejercicio 12. Nombra y explica las diferencias entre los distintos tipos de vasos sanguíneos.

Ejercicio 13. Explica el circuito pulmonar y el circuito general.

Ejercicio 14. Señala las partes del aparato excretor en el siguiente dibujo.



Ejercicio 15. Explica las etapas de la formación de orina.

Ejercicio 16. Explica qué es una nefrona y qué función tiene.